

المادة : الأحياء
الصف : الثاني عشر
الزمن : ساعتان



دولة الكويت
وزارة التربية
التوجيه الفني العام للعلوم

امتحان نهاية الفترة الدراسية الأولى للعام الدراسي ٢٠١٩ - ٢٠٢٠ م

ملاحظة هامة : عدد صفحات الامتحان (٩) صفحات مختلفة

المجموعة الأولى : الأسئلة الموضوعية (السؤالان الأول و الثاني)

السؤال الأول : (أ) اختر الإجابة الصحيحة علمياً لكل عبارة من العبارات التالية و ذلك بوضع

٦

علامة (✓) أمام الإجابة الصحيحة (٦ × ١ = ٦ درجات)

١- خلايا في الجهاز العصبي المركزي مسؤولة عن تكوين غلاف الميلين حول محاور الخلايا العصبية:
ص ٢٠

- خلايا الغراء العصبية قليلة التفرعات خلايا الغراء العصبية الصغيرة
 خلايا شوان الخلايا النجمية

٢- هرمون تفرزه الغدة جارات الدرقية يزيد من مستويات الكالسيوم في الدم ص ١٠

- الباراثيرويد الابرولاكتين
 الاوكسيتوسين الفازوبريسين

٣- أحد مكونات خط الدفاع الأول في الجهاز المناعي الفطري: ص ٤ ١٠

- الجلد الخلايا البلعمية
 الجسم المضاد الخلايا للمفاوية



تابع السؤال الأول : (أ)

٤- تتميز الخلايا اللمفاوية البائية بوجود :ص ١٠٩

- مستقبلات أنتيجينات على سطح الخلية
 بروتينات CD₈ على سطح الخلية
 أجسام مضادة على سطح الخلية
 بروتينات CD₄ على سطح الخلية

٥- التركيب الكروموسومي لخلايا أمهات المني هو :ص ٨٢

- 44+xx
 44+xy
 46+xy
 46+xy

٦- تنمو البلازموغونلا بعد الانغراس الجنيني لتصبح تركيب يسمى :ص ٩٤

- المشيمة
 التوتية
 الجاسترولا
 الزيجوت

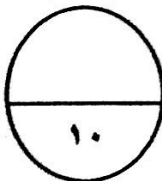


السؤال الأول: (ب) ضع علامة (✓) أمام العبارة الصحيحة وعلامة (x) أمام العبارة غير

الصحيحة لكل عبارة من العبارات التالية :- (٤ × ١ = ٤ درجات)

٤

م	العبارة	الإجابة
١	يعتبر الأمفيتامين من المهبطات التي تبطئ نشاط الجهاز العصبي المركزي. ص ٥٥	(x)
٢	تستخدم الهيدرا ثلاث هرمونات لتحفيز النمو و التكاثر الجنسي . ص ٦٠	(x)
٣	يفرز المبيضان عند أنثى الانسان هرموني الإستروجين و البروجسترون المسؤولان عن التكاثر و ظهور الخصائص الجنسية. ص ٨٥	(✓)
٤	ينخفض تركيز الخلايا التائية المساعدة T4 في الدم كلما ازداد تركيز فيروس عوز المناعة البشرية في الدم . ص ١٢٣	(✓)



درجة السؤال الأول



(امتحان نهاية الفترة الدراسية الأولى للصف الثاني عشر العلمي في مادة الأحياء للعام الدراسي ٢٠١٩ - ٢٠٢٠ م)

السؤال الثاني: (أ) اكتب الاسم أو المصطلح العلمي الذي تدل عليه كل عبارة من العبارات

التالية :- (٦ × ١ = ٦ درجات)

٦

م	العبارة	الإجابة
١	موجه من التغير الكيميائي و الكهربائي تنتقل على طول غشاء الخلية العصبية . ص ٢٨	<u>السيال العصبي</u>
٢	عضو أنبوبي الشكل موجود داخل العمود الفقري و مغلف بالسحايا. ص ٣٩	<u>الحبل الشوكي</u>
٣	الرسائل الكيميائية التي تنتجها الغدة الصماء لتنظيم وضبط أنشطة الجسم. ص ٦٠	<u>الهرمونات</u>
٤	مركبات تقتل البكتيريا من دون أن تضر خلايا اجسام البشر أو الحيوانات و ذلك بإيقاف العمليات الحيوية في البكتيريا. ص ١٠٣	<u>المضادات الحيوية</u>
٥	الجزء السطحي للأنتيجين الذي يتم التعرف عليه من قبل الجسم المضاد ليرتبط به. ص ١١١	<u>الحاتمة</u>
٦	انفراس بويضة مخصبة في قناة فالوب بدلاً من الرحم . ص ٩٨	<u>الحمل خارج الرحم</u>

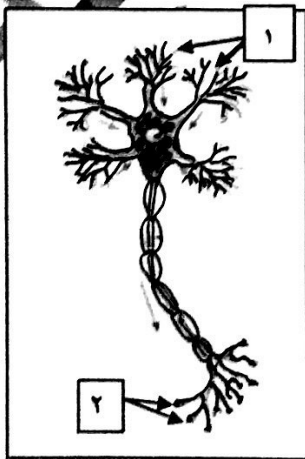
السؤال الثاني: (ب) ادرس الأشكال التالية جيداً ثم أجب عن المطلوب :-

(٨ × ٠,٥ = ٤ درجات)

٤

أولاً : الشكل يمثل الخلية العصبية. ص ١٧

* اكتب البيانات التي تشير إليها الأرقام التالية :



١- زوائد شجيرية

٢- نهايات محورية



٣

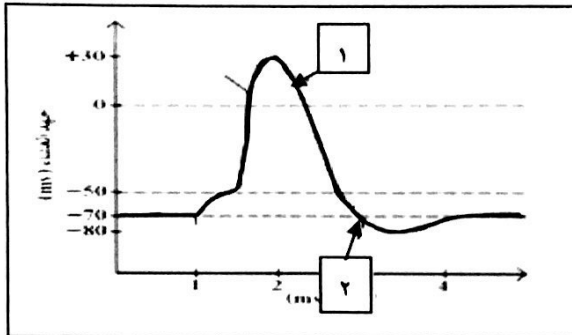


التوجيه الفني العام للعلوم

تابع السؤال الثاني : (ب)

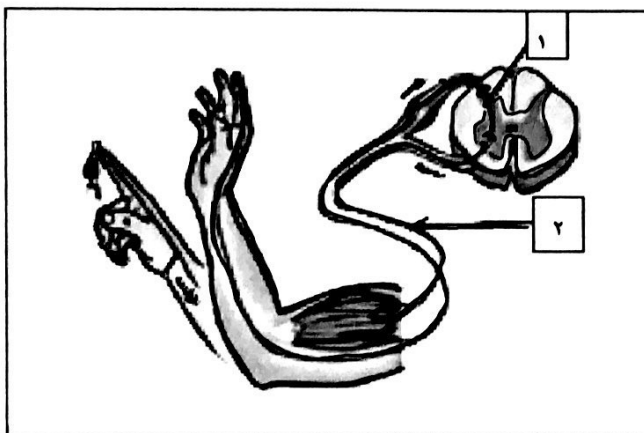
ثانياً : الشكل يمثل مراحل جهد العمل في غشاء الخلية العصبية .ص ٢٩

* اكتب البيانات التي تشير إليها الأرقام التالية :



١- مرحلة : عودة الاستقطاب

٢- مرحلة : فرط الاستقطاب



ثالثاً : الشكل يمثل القوس الانعكاسي .ص ٤٦

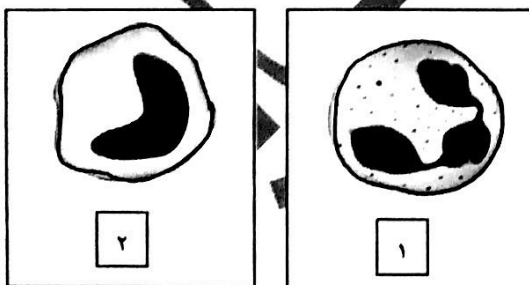
* اكتب البيانات التي تشير إليها الأرقام التالية:

١- نوع الخلية العصبية: الرابطة

٢- نوع الخلية العصبية: الحركية

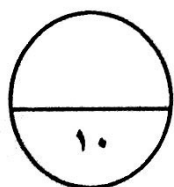
رابعاً : الشكل يمثل أنواع من خلايا الدم البيضاء.ص ١٠٧

* اكتب نوع خلية الدم البيضاء التي تشير إليها الأرقام التالية .



١- خلية متعادلة

٢- خلية وحيدة النواة



درجة السؤال الثاني



التوجيه الفني العام للعلوم

المجموعة الثانية : الأسئلة المقالية

(أجب عن جميع الأسئلة من السؤال الثالث إلى السؤال السادس)

٤

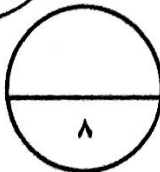
السؤال الثالث: (أ) علل لما يلي تعليلاً علمياً سليماً :- (١ × ٤ = ٤ درجات)

- ١- وجود شقوق و تلافيف على سطح القشرة المخية. ص ١٤
- تساهم في زيادة مساحات المراكز العصبية في المخ.
- ٢- نقص اليود في غذاء الأطفال قد يسبب مرض القماءة. ص ٧٦
- لان نقص اليود في غذاء الأطفال يسبب العجز عن افراز هرمون الثيروكسين الضروري للنمو الطبيعي.
- ٣- تظهر في بعض الأحيان أعراض الحمى على الشخص المصاب بعدوى. ص ١٠٦
- نتيجة قيام الخلايا البلعوية الكبيرة باطلاق مواد كيميائية تسمى البيروجينات التي تحث الدماغ على رفع درجة حرارة الجسم .
- ٤- توجد الخصيتان في كيس الصفن خارج تجويف الجسم. ص ٧٩
- لان درجة الحرارة خارج الجسم تكون اقل أو له دور مهم في إتمام نمو الحيوانات المنوية.

٤

السؤال الثالث : (ب) ما المقصود علمياً بكل مما يلي :- (١ × ٤ = ٤ درجات)

- ١- الليف العصبي ؟ ص ٢١
- الاستطالة الطويلة للخلية العصبية و ما يحيط بها من أغلفة .
- ٢- السحايا ؟ ص ٣٨
- ثلاثة أغشية تحيط بالجهاز العصبي (الدماغ و الحبل الشوكي) / أو الام الجافية - الام العنكبوتية و الام الحنون
- ٣- خلايا سرتولي ؟ ص ٨٣
- خلايا متخصصة في الخصية تؤدي وظائف مهمة كالحماية و التغذية و نقل الرسائل الكيميائية .
- ٤- عملية الاخصاب ؟ ص ٩٣
- اتحاد (اندماج) نواة الحيوان المنوي بنواة البويضة .



درجة السؤال الثالث



السؤال الرابع: (أ) إقرأ كل عبارة من العبارات العلمية التالية جيدا ثم أجب

عن المطلوب:- (٣ × ٢ = ٦ درجات)

١- (يقسم الجهاز العصبي الذاتي الى الجهاز السمبثاوي و الجهاز نظير السمبثاوي اللذين يختلفان

في طريقة انتشار العقد و في الوظيفة). ص ٨؛

* ما تأثير الجهاز نظير السمبثاوي على الأعضاء التالية ؟

-القلب: تتباطأ نبضات القلب- القناة الهضمية : تنشط القناة الهضمية

٢- (يفرز البنكرياس هرمونان يحافظان على ثبات مستوى الجلوكوز في الدم). ص ٧١

* الهرمون الذي يفرز عند ارتفاع مستوى السكر في الدم هو : الانسولين

* الهرمون الذي يفرز عند انخفاض مستوى السكر في الدم هو : الجلوكاجون

٣- (المناعة المكتسبة هي مقاومة الجسم للكائنات الممرضة التي سبق له الإصابة بها).

* بماذا تتميز الاستجابة المناعية الثانوية ؟ ص ١١٧

- اسرع من الاستجابة الأولية أو أقوى من الاستجابة الأولية

* ما دور خلايا الذاكرة في الاستجابة المناعية الثانوية ؟ ص ١١٨

تخزن معلومات عن الانتيجينات التي حاربها الجهاز المناعي أو تنقسم سريعا فتكثر الاجسام المضادة و الخلايا

التائية النشطة في يوم او اثنين.

السؤال الرابع: (ب) أكمل المخططات التالية بما يناسبها من المفاهيم العلمية ما يلي :

(٢ × ١ = ٢ درجات)

١- المخطط يمثل أنواع الغدد في جسم الانسان : ص ٦٣

أنواع الغدد في جسم الانسان

غدد الافراز الخارجي (القنوية)

غدد الافراز الداخلي (الصماء)

٢- المخطط يمثل مكونات أحد أقسام الجهاز المناعي : ص ١٠٤

الجهاز المناعي التكيفي

المناعة الخلوية

المناعة الافرازية

درجة السؤال الرابع

٨

السؤال الخامس : (أ) قارن بإكمال الجدول التالي حسب المطلوب علمياً :

(١ × ٢ - ٢ درجات)

٢

وجه المقارنة	الهيدرا	الطلق الطبي
تركيب الجهاز العصبي ص ١٥	شبكة عصبية بسيطة ١/٢	مخ و عقد عصبية على طول حبل عصبي بطلي يمتد على طول الجسم
وجه المقارنة	مرض التصلب المتعدد	مرض شلل الاطفال
تأثير المرض على الجهاز العصبي (ص ٥٣)	تلف الاغلفة الميلينية في الخلايا العصبية / أو ببطء انتقال السوائل العصبية / أو وقف انتقال السوائل العصبية ١/٢	فيروس بصيب المادة الرمادية للحبل الشوكي / أو يدمر الخلايا العصبية الحركية

السؤال الخامس : (ب) أجب عن الأسئلة التالية : (٢ × ٣ - ٦ درجات)

٦

١- اذكر امثلة على المنبهات الميكانيكية التي تسبب استجابة للجهاز العصبي . ص ٣١

أ- التغيير في الضغط

ب- التغيير في وضعية الجسم

٢- اذكر اطوار دورة الحيض . (يكتفى بنقطتين) ص ٨٨

أ- الطور الحويصلي .

ب- طور الاباضة

ج- طور الجسم الاصفر .

د- الحيض

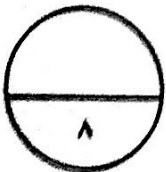
٣- اذكر أسباب العقم لدى الرجال . (يكتفى بنقطتين) ص ٩٨

أ- انتاج عدد قليل من الحيوانات المنوية

ب- إصابة البروستاتا بالسرطان .

ج- تضخم غدة البروستاتا .

د- انتاج حيوانات منوية ناقصة النمو او بها عيوب و تعجز عن الحركة



درجة السؤال الخامس

٧

٢

السؤال السادس: (أ) ما أهمية كل مما يلي :- (٢ × ١ - ٢ درجات)

١- مادة الهيستامين في الجهاز المناعي؟ ص ١٠٥

تعطي الإشارة ببدء الاستجابة بالالتهاب أو تعمل على تمدد الشعيرات الدموية الموجودة في المنطقة المتضررة أو زيادة انسياب الدم الى الموضع و كمية البلازما التي تنفذ و ترشح من الشعيرات الدموية الى السائل بين الخلايا

٢- الخلايا التائية الكابحة (المثبطة)؟ ص ١١٠

تنشط نشاط الخلايا التائية الأخرى عندما لا تكون الحاجة اليها ملحة في الجسم

٦

السؤال السادس: (ب) ادرس الأشكال التالية جيداً ثم أجب عن المطلوب :- (٦ درجات)

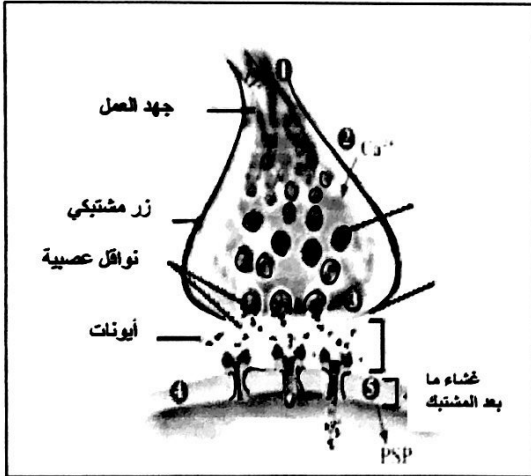
أولاً : الشكل يمثل المشبك الكيميائي في الخلايا العصبية : ص ٣٣-٣٤

أ- ما تأثير فتح قنوات الكالسيوم و دخول ايونات الكالسيوم الى داخل الازرار المشبكية ؟ يحفز التحام الحويصلات المشبكية بالغشاء ما قبل المشبك .

ب- في حالة المشبك العنبري ، ما هي الايونات التي تعبر

القناة الايونية الى الخلية بعد المشبك ؟

ايونات الصوديوم Na^+



ثانياً : الشكل يمثل آلية عمل الهرمونات . ص ٦٤

أ- ما نوع الهرمونات التي تعمل بالآلية الموضحة بالرسم ؟

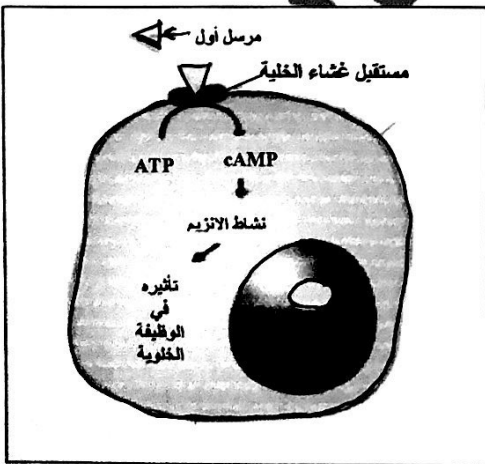
الهرمونات المحبة للماء

ب- ماذا يحدث عند ارتباط الهرمونات بالمستقبل على سطح الخلية

يحفز هذا الارتباط انزيم الادنيل سيكليز الذي يحول الادونوزين

ثلاثي الفوسفات الى ادينوزين احادي الفوسفات الحلقي الذي يعتبر

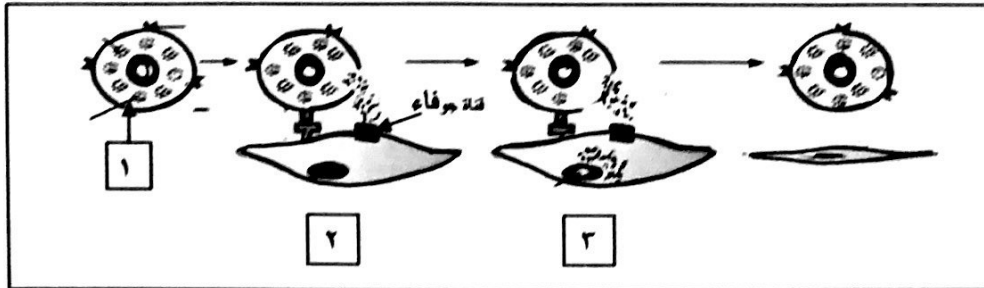
المرسل الثاني و يغير عمل الخلية او ينظمه.



التوجيه الفني العام للعلوم

تابع السؤال السادس : (ب)

ثالثاً : الشكل يمثل آلية عمل المناعة الخلوية . و المطلوب :ص ١١٤



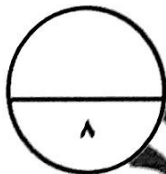
يتم افراز سم من الخلية رقم (١) لقتل الخلية المستهدفة تسمى قاتل الخلية .

أ - ما اسم قاتل الخلايا المفرز في الخطوة رقم (١) ؟

البرفورين

ب- ما هو تأثير قاتل الخلايا المفرز في الخطوة رقم (٣) ؟

يحدث تفاعل انزيمي يؤدي الى تحلل DNA الخلية وبالتالي موتها



درجة السؤال السادس



*** انتهت الأسئلة ***



التوجيه الضني العام للمعلم