

(عدد الصفحات : 9)

دولة الكويت

وزارة التربية

نموذج الاجابة

التوجيه الفني العام للعلوم

امتحان الفترة الدراسية الأولى - العام الدراسي 2019-2020 م

المجال الدراسي : الكيمياء للصف الثاني عشر العلمي - الزمن : ساعتان

أولاً : الأسئلة الموضوعية

السؤال الأول :

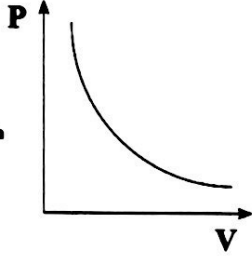
(أ) اكتب بين القوسين الاسم أو المصطلح العلمي الذي تدل عليه كل من العبارات التالية: (3= 6 x ½)

1. درجة الحرارة التي عندها يكون متوسط الطاقة الحركية لجسيمات الغاز يساوي صفرًا نظرياً. أو 0K أو -273°C .
(الصفر المطلق (ص) 29)
2. الحجم الذي يشغله المول الواحد من الغاز عند الظروف القياسية من الضغط ودرجة الحرارة يساوي (22.4 L).
(الحجم المولي (ص) 46)
3. مادة تزيد من سرعة التفاعل دون استهلاكها، إذ يمكن بعد توقف التفاعل استعادتها من المزيج المتفاعل من دون أن تتعرض لتغير كيميائي.
(المادة المحفزة (ص) 67)
العامل الحفاز أو العامل المساعد
4. النسبة بين حاصل ضرب تركيز المواد الناتجة من التفاعل إلى حاصل ضرب تركيز المواد المتفاعلة كل مرفوع إلى أس يساوي عدد المولات في المعادلة الكيميائية الموزونة.
(ثابت الاتزان K_{eq} (ص) 74)
أو
5. الجزء المتبقي من الحمض بعد فقد البروتون H^+ .
(القاعدة المرافقة (ص) 103)
أو اسم الحمض
6. أحماض تحتوي على ثلاثة عناصر منها الأكسجين.
(الأحماض الأوكسجينية (ص) 107)
أو الأحماض ثلاثية، لعنصر



(ب) املأ الفراغات في الجمل التالية بما يناسبها علمياً : (7-1x7)

1. عند ارتفاع درجة حرارة كمية من الغاز فإن التصادم المستمر بين الجسيمات وجدار الاناء ... يزداد .. ص 15



2. الشكل المقابل يمثل الرسم البياني لأحد قوانين الغازات هو ... قانون بويل ... ص 24

3. غبار الفحم ... أكثر ... نشاطاً من كتل الفحم الكبيرة. ص 67

4. إذا كان التعبير عن ثابت الاتزان لأحد التفاعلات الغازية هو $K_{eq} = \frac{[NO_2]^2}{[N_2O_4]}$ فتكون معادلة التفاعل الكيميائي هي ... $N_2O_4(g) \rightleftharpoons 2NO_2(g)$... ص 75

لدى سبب على الحالة الفيزيائية

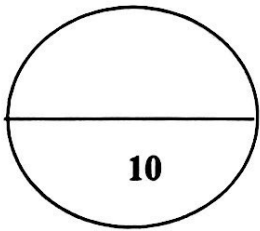
5. في التفاعلات العكوسة الماصة للحرارة تقل قيمة ثابت الاتزان عند ... انخفاض ... درجة الحرارة. ص 78

مدى الدليل	8	9.6
لون الحالة	أصفر	أزرق

6. مدى دليل الثايمول الأزرق القاعدي موضح في الجدول

قطرات منه إلى (100 mL) من الماء المقطر فإن المحلول يتلون باللون ... الأصفر ... ص 123

7. تزداد قوة الحمض كلما كانت قيمة pKa له ... قليلة / منخفضة / أقل ... ص 128



درجة السؤال الأول



السؤال الثاني :

(أ) اكتب كلمة (صحيحة) بين التوسين المقابلين للعبارة الصحيحة وكلمة (خطأ) بين التوسين المقابلين للعبارة الخاطئة في كل مما يلي: (3 = 6 x ½)

1. من فرضيات النظرية الحركية أن الغازات تتميز بقوة تجاذب عالية بين جسيماتها. (خطأ) ص 15
2. عند رفع درجة الحرارة المطلقة لغاز مثالي إلى الضعف فإن حجمه يقل إلى النصف عند ثبوت الضغط. (خطأ) ص 29
3. تقاس سرعة التفاعل الكيميائي بكمية المتفاعلات التي يحدث لها التغيير في خلال وحدة الزمن. (صحيحة) ص 64
4. التفاعل التالي: $N_2(g) + 3 H_2(g) \rightleftharpoons 2 NH_3(g)$ يعتبر من التفاعلات العكوسة المتجانسة. (صحيحة) ص 71
5. أنيون الأسيتات CH_3COO^- يعتبر من قواعد برونستد - لوري. (صحيحة) ص 02
6. حاصل جمع (pH , pOH) يساوي (14) عند (25 °C) في المحاليل المتعادلة (خطأ) ص 117 فقط.

(ب) ضع علامة (✓) بين التوسين أمام الإجابة الصحيحة التي تكمل كلاً من العبارات التالية: (7-1 x 7)

1. الجدول التالي يمثل تسجيل القراءات لإحدى التجارب العملية لكمية معينة من غاز ما،

3.2	3.1	2.1	1.8	0.9	الحجم (L)
488	473	320	257	137	درجة الحرارة (K)

و من خلاله يتضح أنه عند ثبوت الضغط فإن حجم كمية معينة من الغاز:

- ص 29
- (✓) يتناسب طردياً مع درجة حرارته المطلقة () لا يتأثر بتغير درجة حرارته المطلقة
- (✓) يتغير عشوائياً بتغير درجة حرارته المطلقة () يتناسب عكسياً مع درجة حرارته المطلقة



نموذج الإجابة

تابع السؤال الثاني (ب)

2. يحتوي خليط غازي على أكسجين ونيتروجين وثاني أكسيد الكربون وضغطه الكلي P_T يساوي (32.9kPa)، إذا كان الضغط الجزئي للأكسجين P_{O_2} يساوي (6.6 kPa) والضغط الجزئي للنيتروجين P_{N_2} يساوي (23kPa) فإن الضغط الجزئي لثاني أكسيد الكربون P_{CO_2} يساوي:

ص 51

- 3.3 kPa (√)
9.9 kPa ()
26.3 kPa ()
29.6 kPa ()

3. إحدى العبارات التالية لا تنطبق على التفاعلات العكوسة:

ص 74

- () تنقسم إلى تفاعلات متجانسة وغير متجانسة () لا تستهلك المواد المتفاعلة تماماً
(√) المواد الناتجة لا تستطيع أن تتحد مع بعضها () تصل لحالة الاتزان عندما يتساوى معدل لتكون المواد المتفاعلة
سرعة التفاعل الطردي والعكسي

ص 78

4. جميع العوامل تؤثر على موضع اتزان التفاعل الكيميائي عدا واحدة، هي:

- (√) المادة المانعة () التركيز
() درجة الحرارة () الضغط

5. في النظام المتزن التالي: $PCl_5(g) + 120 \text{ kJ} \rightleftharpoons PCl_3(g) + Cl_2(g)$

ص 79

يمكن زيادة كمية الكلور (Cl_2) في التفاعل:

- () بإضافة الكلور إلى مزيج التفاعل () بخفض درجة الحرارة
() بزيادة الضغط (√) بزيادة درجة الحرارة

ص 106



HCOOH ()

Mg(OH)₂ ()

6. الحمض ثنائي البروتون من المركبات التالية هو:

HBrO₂ ()

H₂SO₄ (√)

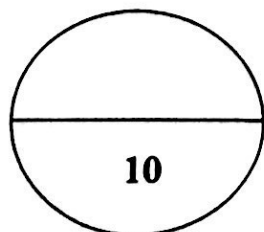
7. قيمة الأس الهيدروكسيدي pOH لمحلول هيدروكسيد الصوديوم NaOH الذي تركيزه (0.0001) يساوي: 117

4 (√)

1 ()

10 ()

3 ()



درجة السؤال الثاني

4



ثانياً : الأسئلة المقالية

نموذج الإجابة

السؤال الثالث:

(أ) ما المقصود بكل من : (3-3x1)

1- فرضية أفوجادرو ؟ الحجم المتساوية من الغازات المختلفة عند درجة الحرارة والضغط نفسيهما تحتوي على أعداد متساوية من الجسيمات.

ص 46

2- التفاعلات العكوسة غير المتجانسة ؟ تفاعلات عكوسة توجد فيها جميع المواد الداخلة والناجئة من التفاعل في أكثر من حالة واحدة من حالات المادة.

ص 72

3- الأس الهيدروجيني ؟ القيمة السالبة للوغاريتم العشري لتركيز كاتيون الهيدروجين H^+ .

ص 116

(ب) هل المسألة التالية : (3-1x3)

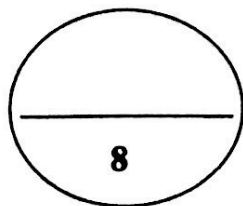
يشغل غاز عند ضغط يساوي (155 kPa) ودرجة حرارة (25°C) حجماً (1 L) ، عند زيادة الضغط إلى (605 kPa) بفعل درجة الحرارة إلى (125°C) احسب الحجم النهائي.

ص 34

$T_1 = 25 + 273 = 298 \text{ K}$	درجة	$P_1 V_1 / T_1 = P_2 V_2 / T_2$
$T_2 = 125 + 273 = 398 \text{ K}$	درجة	$155 / 298 = 605 \times V_2 / 398$
	درجة	$V_2 = 0.342 \text{ kPa}$

(ج) في الجدول التالي اختر من القائمة (ب) النوع المناسب للقائمة (أ) : (2-4x½)

م	القائمة (أ)	القائمة (ب)
1	من الأحماض القوية	H_3O^+
2	يتأين على ثلاث مراحل	H_3PO_4
3	قاعدة تتأين بشكل تام في الماء	OH^-
4	الحمض المرافق للماء	KOH
		HCl



درجة السؤال الثالث



نموذج الإجابة

السؤال الرابع : (أ) ملل لما يلي تعليلا علميا صحيحا : (3-1X3)

1. تستخدم الغازات في عمل الوسائد الهوائية في السيارات وأجهزة الأمان الأخرى. لأنها تمتص الطاقة الناتجة عن التصادم عندما تضطر جسيمات الغاز إلى الاقتراب من بعضها البعض وذلك بسبب تباعد جسيمات الغاز بدرجة كبيرة مما يجعلها قابلة للانضغاط.

ص 15

2. تثبت تركيزات المواد المتفاعلة والمواد الناتجة من التفاعل عند وصول النظام إلى حالة الاتزان الكيميائي الديناميكي.

لأن عند الاتزان الكيميائي الديناميكي تصبح سرعة التفاعل الطردي مساوية لسرعة التفاعل العكسي. ص 72

3. في التفاعل التالي: $H_3N + BF_3 \rightarrow H_3N:BF_3$

يعتبر ثالث فلوريد البورون حمض لويس.

ص 105

لأن ثالث فلوريد البورون يستقبل زوج إلكترونات من الامونيا.

(ب) أكمل الجدول التالي بكتابة الاسم العلمي أو الصيغة الكيميائية لكل من: (2=½x4)

صيغة المركب	اسم المركب
ص 108 <u>HF</u>	حمض الهيدروفلوريك
ص 110 <u>HClO₄</u>	حمض البير كلوريك
ص 110 LiOH	<u>هيدروكسيد الليثيوم</u>
ص 110 H ₂ CO ₃	<u>حمض الكربونيك</u>

(ج) حل المسألة التالية : (3=1x3)

إذا علمت أن قيمة ثابت الاتزان K_{eq} للتفاعل التالي : $CaSO_{4(s)} \rightleftharpoons Ca^{2+}_{(aq)} + SO_{4}^{2-}_{(aq)}$

ص 76

تساوي 2.4×10^{-5} ، احسب تركيز كل أيون في المحلول عند الاتزان.



درجة

$$K_{eq} = [Ca^{2+}] [SO_4^{2-}]$$

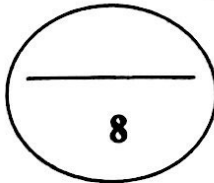
درجة

$$2.4 \times 10^{-5} = X^2$$

$$X = \sqrt{2.4 \times 10^{-5}}$$

درجة

$$[Ca^{2+}] = [SO_4^{2-}] = X = 4.898 \times 10^{-3} \text{ M}$$



درجة السؤال الرابع

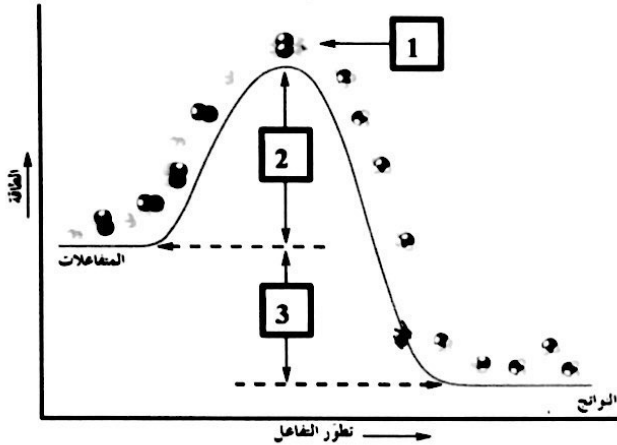
أو أي حل آخر صحيح



السؤال الخامس :

نموذج الإجابة

(أ) ادرس الشكل المقابل ثم حدد ما تمثله الأرقام في الرسم البياني مستعيناً بالمفاهيم التالية: (3×1)
 (طاقة المتفاعلات ، طاقة التنشيط ، الطاقة الناتجة من التفاعل ، طاقة النواتج ، المركب المنشط)



الرقم 1 يمثل ... المركب المنشط ...

الرقم 2 يمثل ... طاقة التنشيط ...

الرقم 3 يمثل ... الطاقة الناتجة من التفاعل ...

ص 65

(ب) اكمل جدول المقارنة التالية: (2×4=8)

وجه المقارنة	قانون الغاز المثالي	قانون جاي لوساك
العلاقة الرياضية	$PV = nRT$	$P_1 / T_1 = P_2 / T_2$ ص 38 32
وجه المقارنة	$1 < K_{eq}$	$1 > K_{eq}$
اتجاه موضع الاتزان في التفاعلات العكوسة (الطردي - العكسي)	الطردي	العكسي ص 74

(ج) حل المسألة التالية: (3×1)

احسب قيمة ثابت تأين K_a لحمض الميثانويك $HCOOH$ تركيزه (0.1 M) ، إذا كان تركيز كاتيون الهيدرونيوم H_3O^+ في المحلول يساوي ($4.2 \times 10^{-3} M$)

ص 131 تركيز الحمض عند الاتزان = $0.1 - 4.2 \times 10^{-3} = 0.0958 M$

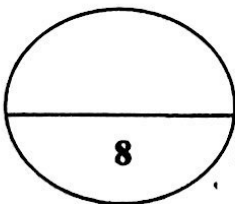
درجة $K_a = [H_3O^+] [HCOO^-] / HCOOH$

درجة $[4.2 \times 10^{-3} M] [4.2 \times 10^{-3} M] / [0.0958]$

درجة $K_a = 1.84 \times 10^{-4}$



أو أي حل آخر صحيح



درجة السؤال الخامس



نموذج الاجابة

السؤال السادس :

(أ) اقرأ العبارة التالية ثم أجب مما يلي : (درجتان)

"يعتبر الحليب هام جدا للأطفال والكبار حيث يحتوي على العناصر الهامة لبناء الجسم وقد وجد يوسف على زجاجة الحليب ان قيمة الأس الهيدروجيني (pH = 5.6)"

116 ص 1. حدد نوع المحلول لعينة الحليب السابقة (متعادل - حمضي - قاعدي).

حمضي

1/2 درجة

118 ص 2. احسب قيمة تركيز كاتيون الهيدروجين $[H^+]$.

$$[H^+] = 10^{-pH} = 2.5 \times 10^{-6}$$

1/2 درجة

117 ص 3. احسب قيمة تركيز أنيون الهيدروكسيد $[OH^-]$.

$$[H^+][OH^-] = 1 \times 10^{-14}$$

$$[OH^-] = 4 \times 10^{-9}$$

1/2 درجة

أوأي حل أكثر صريح

(ب) ماذا تتوقع أن يحدث في الحالات التالية مع التفسير : (3 - 1 x 3)

1. توصيل وعاء حجمه 3L به غاز الأكسجين بوعاء فارغ حجمه 2L (عند نفس الظروف من الضغط ودرجة الحرارة)

15 ص

التوقع لحجم غاز الأكسجين: يزداد / يصبح 5L

التفسير: ينتشر الغاز حتى يأخذ حجم الوعاء الذي يحويه.

2. تسخين كمية معينة من الغاز في وعاء حجمه ثابت.

32 ص

التوقع لضغط الغاز: ارتفاع / زيادة

التفسير: بسبب زيادة متوسط طاقة حركة جسيمات الغاز بالتالي تزداد تصادمات جسيمات الغاز بجدران

الوعاء. أو عند ثبوت الحجم يتناسب ضغط كمية معينة من الغاز تناسباً طردياً مع درجة حرارتها المطلقة.

3. ادخال رفاقة خشب مشتعلة في زجاجة مملوءة بغاز الأكسجين.

66 ص

التوقع لرقاقة الخشب: يزداد اشتعالها / تتوهج

التفسير: زيادة تركيز الأكسجين يزيد تفاعل الاحتراق

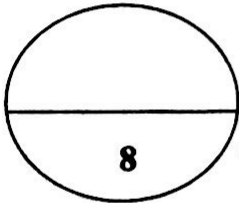
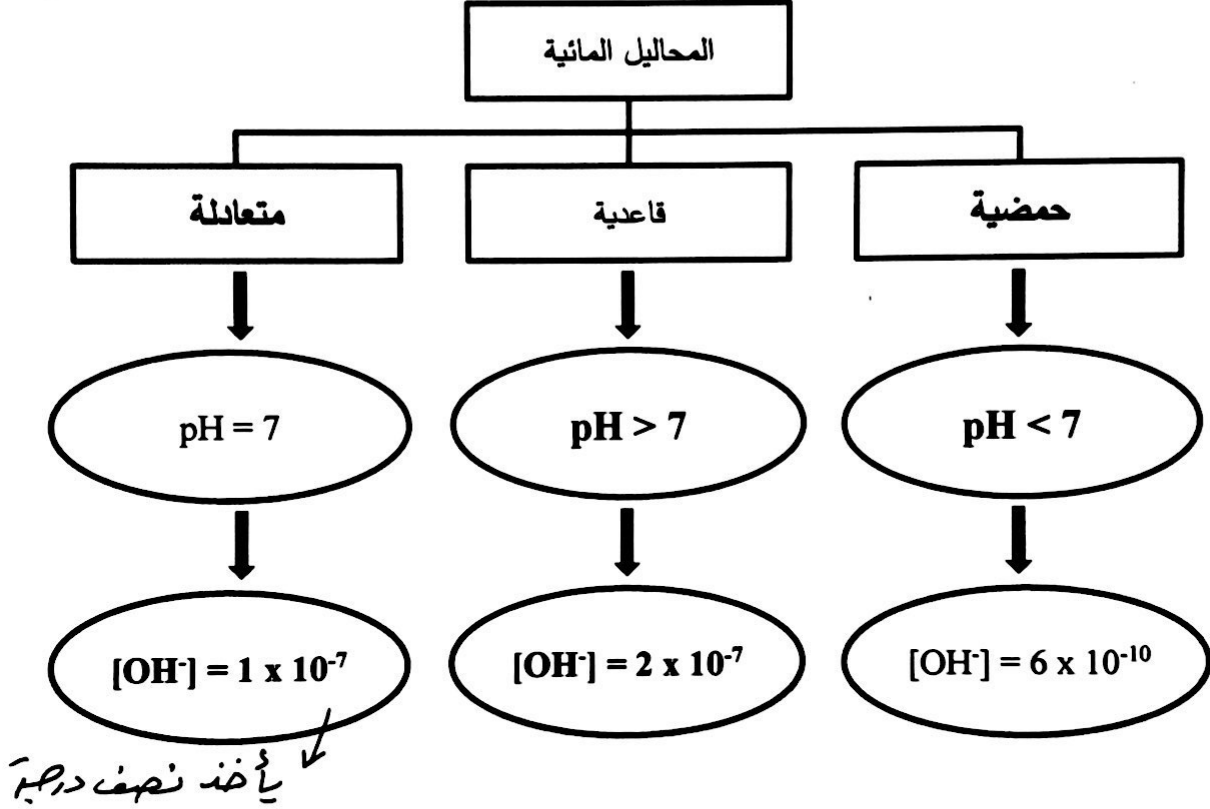


تابع / السؤال السادس:

(=) اكمل خريطة المفاهيم مستعيناً بالمصطلحات التالية: (3=½×6)

(متعادلة ، $pH < 7$ ، $[OH^-] = 2 \times 10^{-7}$ ، حمضية ، $pH > 7$ ، $[OH^-] = 2 \times 10^{-7}$)

ص 116



درجة السؤال السادس



انتهت الأسئلة ،،،

