

نموذج إجابة بنك أسئلة الصف الثاني
التربية الخاصة
مدارس (الأمل ، الرجاء ، النور)

الفترة الدراسية الثانية

العام الدراسي
2025-2024



2

الصف الثاني



SCAN ME




فريق إعداد التوجيهات الفنية

السؤال الأول : اختر الإجابة الصحيحة من بين الإجابات التالية ، وذلك بتظليل المربع المقابل لها :-

1- تدور الأرض حول نفسها مرة كل :

ساعة 12 ساعة 8 ساعات 24 ساعة ساعة

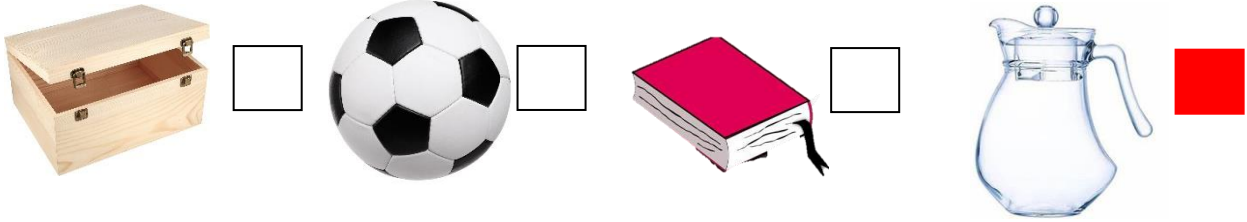
2- أحد الأشكال التالية تمثل السماء ليلا :



3- يستطيع سائق السيارة رؤية ماحوله من خلال النوافذ المصنوعة من :

زجاج خشب حديد قماش

4- أحد الأجسام التالية يسمح بمرور الضوء من خلاله :



5- يتغير طول ظل الجسم باختلاف :

فصول السنة درجة الحرارة أوقات النهار مصدر الضوء



6- تحدث ظاهرة الفصول الأربعة نتيجة ميلان محور الأرض أثناء دورانها حول :

الشمس القمر النجم نفسها


7- من الأشياء التي تحميني من أشعة الشمس :



8- أحد المنتجات الالكترونية ذات الحجم الكبير وتوفر الوقت والجهد :



السؤال الثاني : ضع علامة (√) أمام العبارة الصحيحة وعلامة (x) أمام العبارة غير الصحيحة للعبارات التالية :-

- 1- نرى الشمس في السماء ليلا (x)
- 2- تدور الأرض حول نفسها كل 20 ساعة أمام الشمس . (x)
- 3- الجزء الذي يواجه  على الكرة الأرضية يكون نهارا (√)
- 4- الهواء يسمح بمرور الضوء. (√)
- 5- الضوء ضروري لتكون الظل. (√)
- 6- الخشب مورد طبيعي يستخدم في صناعة الأثاث. (√)
- 7- بقايا الطعام من الأشياء التي يمكننا إعادة تدويرها. (√)

السؤال الثالث : أكمل العبارات التالية بما يناسبها من كلمات علمية صحيحة :-

- 1- عندما تدور الأرض حول نفسها أمام الشمس يحدث **الليل والنهار**
- 2- تصنع النوافذ المنزلية من أجسام **شفافة**
- 3- الجسم الذي لا يسمح بمرور الضوء يسمى جسم **معتم**
- 4- يتميز فصل الصيف بدرجة حرارة **مرتفعة**
- 5- عملية تحويل المواد التي لا نستخدمها الى مواد جديدة تسمى **إعادة تدوير**

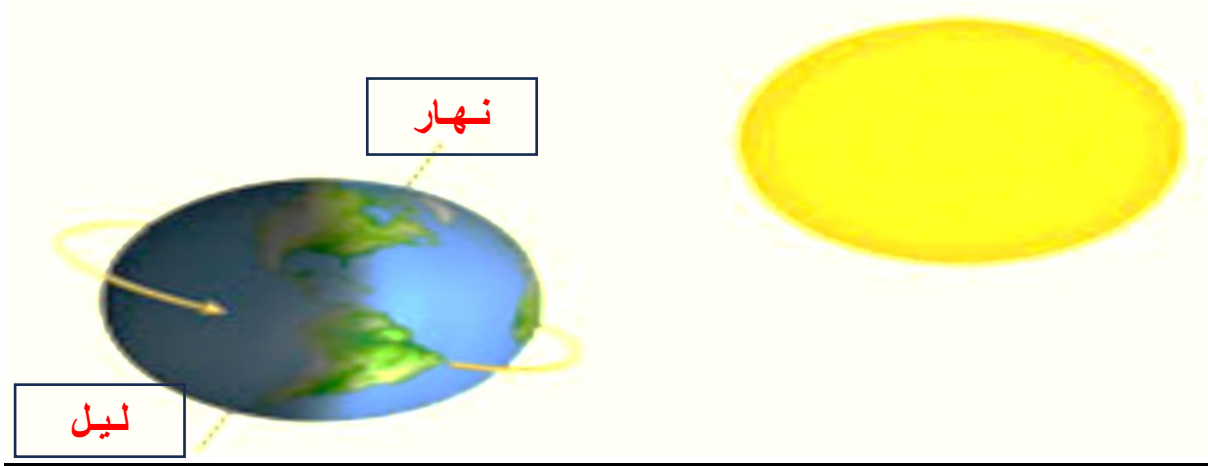
السؤال الرابع : في الجدول التالي اختر العبارة من المجموعة (ب) واكتب رقمها أمام ما يناسبها من عبارات المجموعة (أ) :-

المجموعة (ب)	المجموعة (أ)	الرقم
1- أقصر ما يمكن	- ظل الجسم في فترة الصباح	(2)
2- أطول ما يمكن	- ظل الجسم في فترة الظهيرة	(1)
3- متوسط الطول		

المجموعة (ب)	المجموعة (أ)	الرقم
1- 	- في خزانتي الصيفية	(1)
2- 		
3- 	- في خزانتي الشتوية	(4)
4- 		

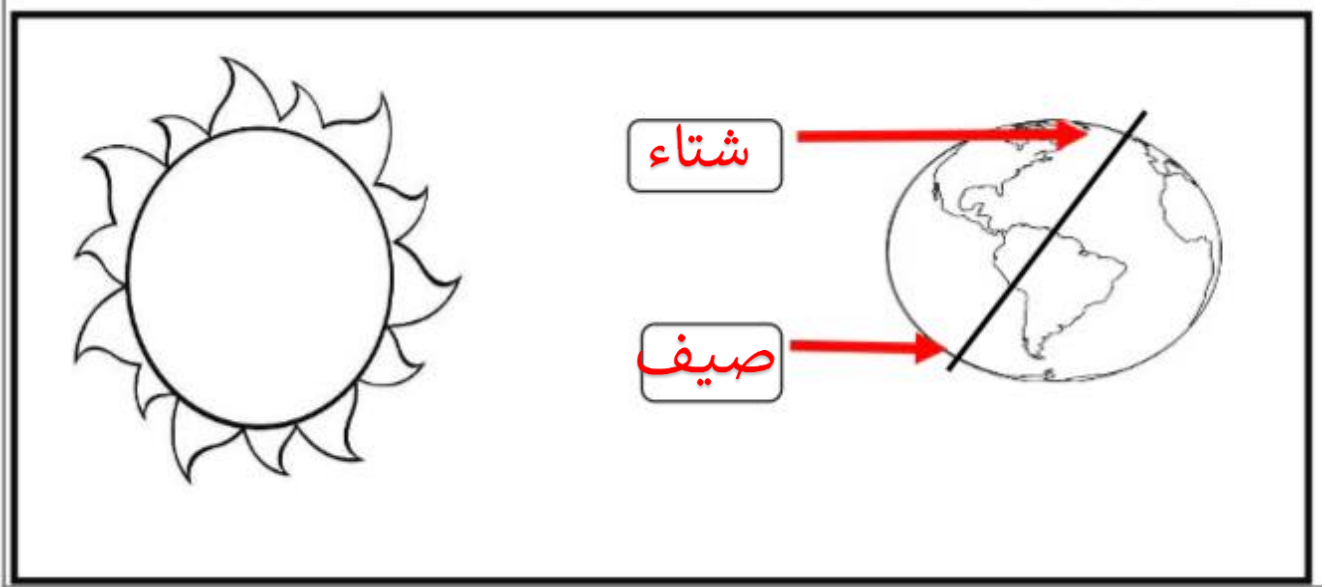
السؤال الخامس : ادرس الرسومات التالية ، ثم اجب عن ما هو مطلوب :-

1- اكتب كلمة (ليل) و (نهار) في المكان المناسب :



2- الشكل يمثل موقع الكرة الأرضية بالنسبة للشمس ،

اكتب اسم الفصل المناسب للمكان المشار له على الكرة الأرضية
(صيف - شتاء)



انتهت الأسئلة