

بنك أسئلة الصف الثاني - التربية الخاصة  
مدارس ( الأمل ، الرجاء ، النور )

الصف الثاني - الفترة الدراسية الثانية

العام الدراسي  
2025-2024



2

الصف الثاني



SCAN ME




فريق إعداد التوجيهات الفنية

**السؤال الأول : اختر الإجابة الصحيحة من بين الإجابات التالية ، وذلك بتظليل المربع المقابل لها :-**

1- تدور الأرض حول نفسها مرة كل :

ساعة  12 ساعة  8 ساعات  24 ساعة  ساعة

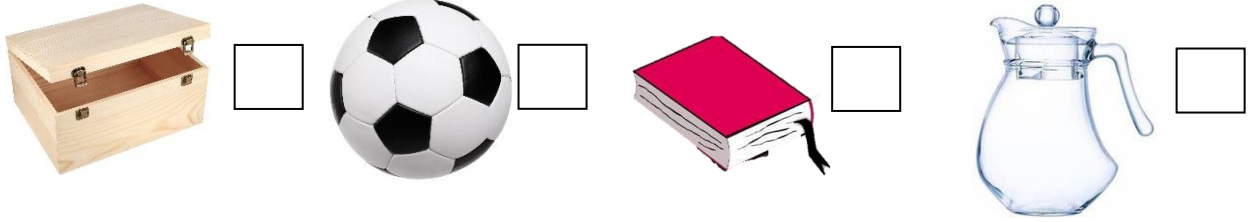
2- أحد الأشكال التالية تمثل السماء ليلا:



3- يستطيع سائق السيارة رؤية ما حوله من خلال النوافذ المصنوعة من :

زجاج  خشب  حديد  قماش

4- أحد الأجسام التالية يسمح بمرور الضوء من خلاله



5- يتغير طول ظل الجسم باختلاف:

فصول السنة  درجة الحرارة  أوقات النهار  مصدر الضوء



6- تحدث ظاهرة الفصول الأربعة نتيجة ميلان محور الأرض أثناء دورانها حول:

الشمس  القمر  النجم  نفسها


7- من الأشياء التي تحميني من أشعة الشمس :



8- أحد المنتجات الالكترونية ذات الحجم الكبير وتوفر الوقت والجهد



**السؤال الثاني : ضع علامة ( √ ) أمام العبارة الصحيحة وعلامة ( x ) أمام العبارة غير الصحيحة للعبارات التالية :-**

- 1- نرى الشمس في السماء ليلا ( )
- 2- تدور الأرض حول نفسها كل 20 ساعة أمام الشمس . ( )
- 3- الجزء الذي يواجه  على الكرة الأرضية يكون نهارا ( )
- 4- الهواء يسمح بمرور الضوء. ( )
- 5- الضوء ضروري لتكون الظل. ( )
- 6- الخشب مورد طبيعي يستخدم في صناعة الأثاث. ( )
- 7- بقايا الطعام من الأشياء التي يمكننا إعادة تدويرها. ( )

**السؤال الثالث : أكمل العبارات التالية بما يناسبها من كلمات علمية صحيحة :-**

- 1- عندما تدور الأرض حول نفسها أمام الشمس يحدث .....
- 2- تصنع النوافذ المنزلية من أجسام .....
- 3- الجسم الذي لا يسمح بمرور الضوء يسمى جسم .....
- 4- يتميز فصل الصيف بدرجة حرارة .....
- 5- عملية تحويل المواد التي لا نستخدمها الى مواد جديدة تسمى .....

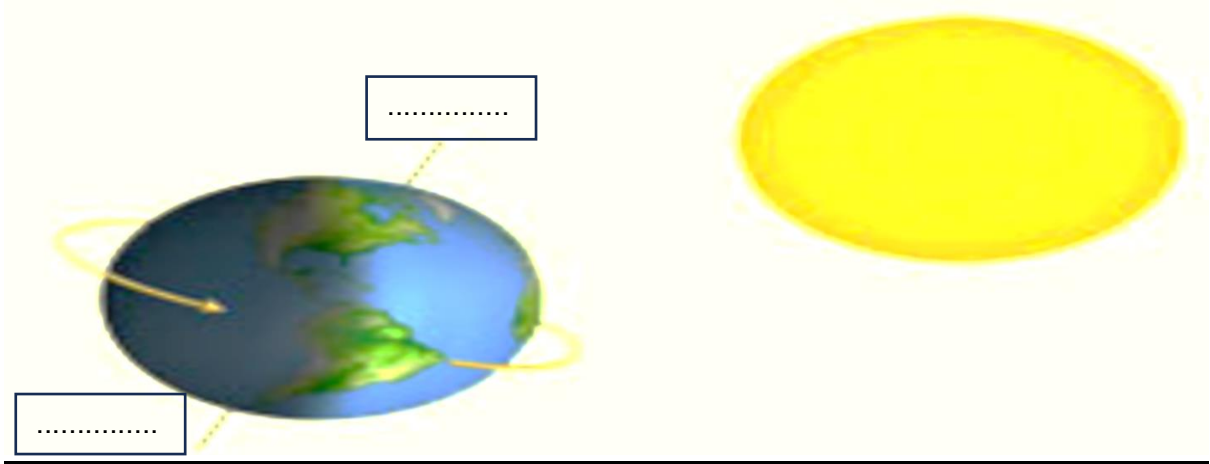
**السؤال الرابع : في الجدول التالي اختر العبارة من المجموعة ( ب ) واكتب رقمها أمام ما يناسبها من عبارات المجموعة ( أ ) :-**

المجموعة ( ب )	المجموعة ( أ )	الرقم
1- أقصر ما يمكن	- ظل الجسم في فترة الصباح	( )
2- أطول ما يمكن	- ظل الجسم في فترة الظهيرة	( )
3- متوسط الطول		

المجموعة ( ب )	المجموعة ( أ )	الرقم
 <p>1-</p>  <p>2-</p>	- في خزانتي الصيفية	( )
 <p>3-</p>  <p>4-</p>	- في خزانتي الشتوية	( )

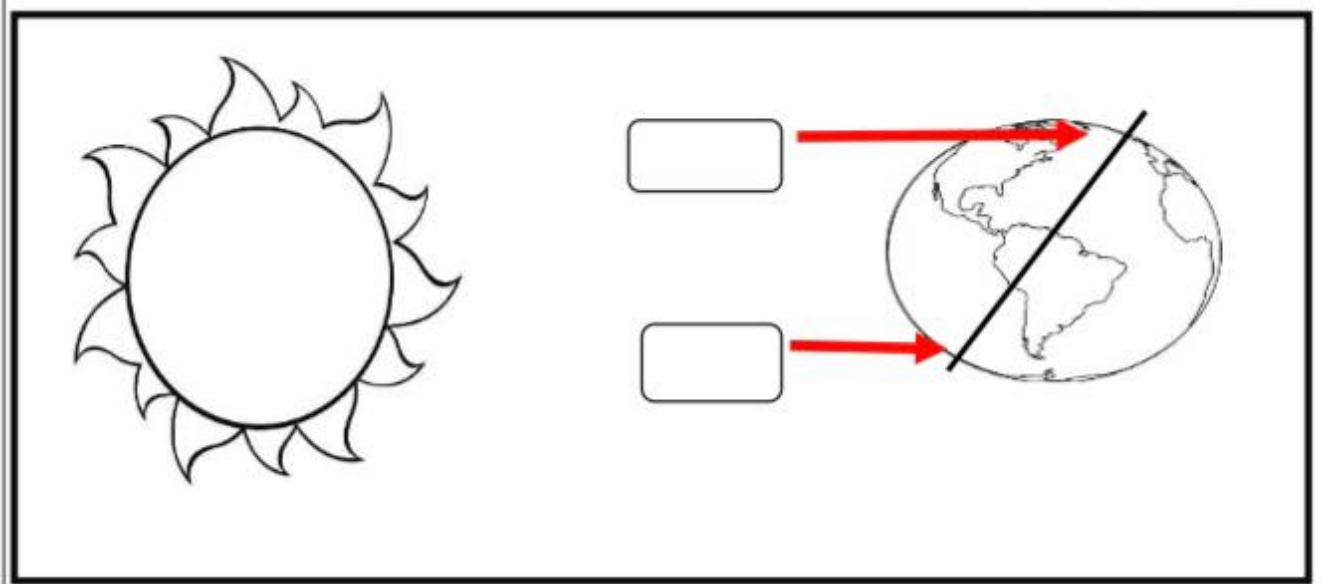
السؤال الخامس : ادرس الرسومات التالية ، ثم اجب عن ما هو مطلوب منك :-

1- اكتب كلمة ( ليل ) و ( نهار ) في المكان المناسب



2- الشكل يمثل موقع الكرة الأرضية بالنسبة للشمس

اكتب اسم الفصل المناسب للمكان المشار له على الكرة الأرضية  
( صيف - شتاء )



انتهت الأسئلة