

نموذج إجابة بنك أسئلة الصف الأول

التربية الخاصة

مدارس (الأمل ، الرجاء ، النور)

الفترة الدراسية الثانية

العام الدراسي

2025-2024



1

الصف الأول



SCAN ME



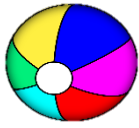
فريق إعداد التوجيهات الفنية

السؤال الأول : اختر الإجابة الصحيحة من بين الإجابات التالية ، وذلك بتظليل المربع المقابل لها :-


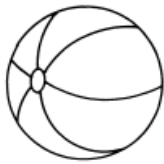
1- يعتبر من مصادر الضوء:ص21



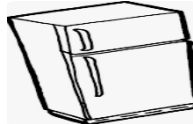
2- نحمل أعيننا من أشعة الشمس بواسطة:ص21



3- من الأشياء التي تصدر صوتا: ص15




4- جهاز مصدر الكهرباء لتشغيله هو البطارية: ص48





5- من إشارات السير إشارة العبور وهي: ص61




السؤال الثاني : ضع علامة (√) أمام العبارة الصحيحة وعلامة (x) أمام العبارة غير الصحيحة للعبارات التالية :-

1- رفع صوت التلفاز يسبب ضرر للآخرين . (√)  ص36

2- إشارة المرور مهمة لتنظيم مرور السيارات بأمان . (√)  ص59

3- هذا الشكل يوضح مغناطيس كهربائي . (√)  ص72

4- في الشكل التالي كلما قل عدد البطاريات زادت قوة اضاءة المصباح . (x)  ص70


5- ضرب المغناطيس يزيد من قوته . (x) ص80

السؤال الثالث : ادرس الرسومات التالية ، ثم اجب عن ما هو مطلوب :-


1- صل الصورة بالحل المناسب لها: ص41




2- صل بين الصور والكلمة المناسبة : ص 59



قف



استعد



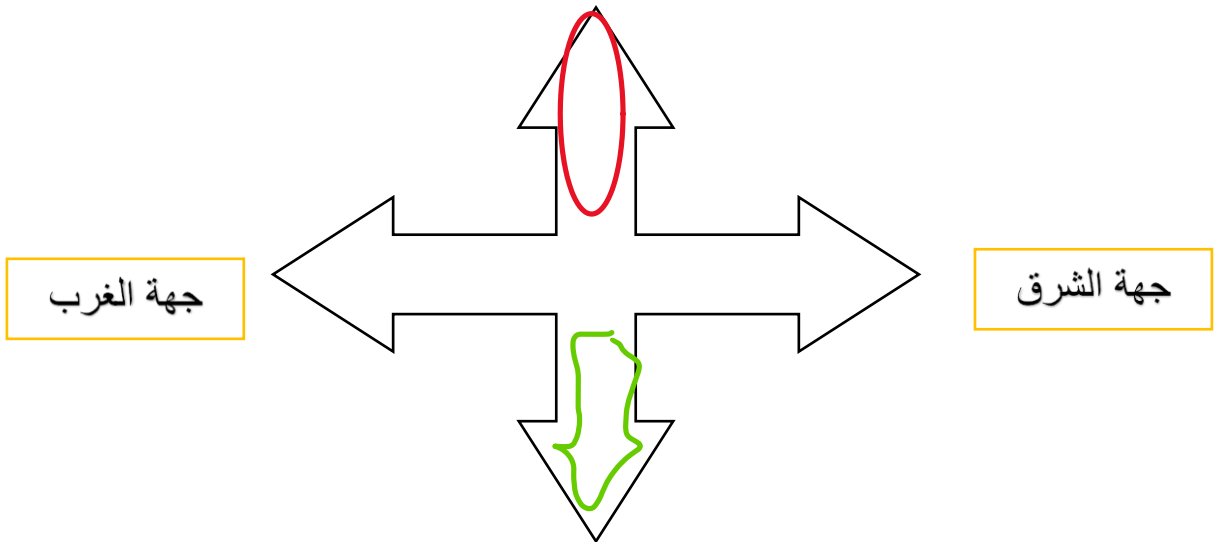
سر

3- لون الإشارة التي تعبر عن مواقف ذوي الاحتياجات الخاصة : ص61



السؤال الرابع : أكمل البيانات الناقصة على الرسم ثم لون ما هو مطلوب : ص68

- جهة الشمال باللون الأحمر
- جهة الجنوب باللون الأخضر



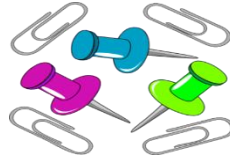
السؤال الخامس : صنف الصور التي أمامك حسب ما هو مطلوب منك: ص64



(4)





(3)



(2)



(1)

أشياء لا يجذبها المغناطيس 	أشياء يجذبها المغناطيس 
4 1	3 2

انتهت الأسئلة