

بنك أسئلة الصف الأول - التربية الخاصة مدارس (الأمل ، الرجاء ، النور)

الصف الأول - الفترة الدراسية الثانية

العام الدراسي
2025-2024



1

الصف الأول



SCAN ME



فريق إعداد التوجيهات الفنية

السؤال الأول : اختر الإجابة الصحيحة من بين الإجابات التالية ، وذلك بتظليل المربع المقابل لها :-


1- يعتبر من مصادر الضوء:



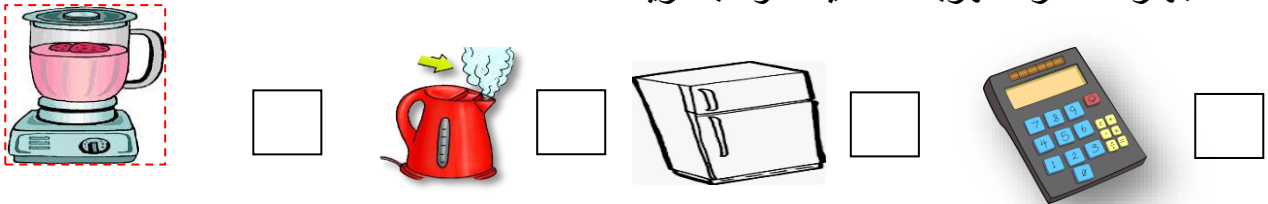
2- نحمي أعيننا من أشعة الشمس بواسطة:



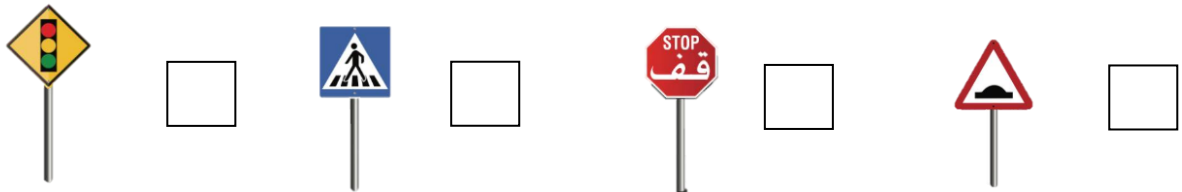
3- من الأشياء التي تصدر صوتا:



4- جهاز مصدر الكهرباء لتشغيله هو البطارية:



5- من إشارات السير إشارة العبور وهي:



السؤال الثاني : ضع علامة (√) أمام العبارة الصحيحة وعلامة (x) أمام العبارة غير الصحيحة للعبارات التالية :-


- 1- رفع صوت التلفاز يسبب ضرر للأخرين . ()
- 2- إشارة المرور مهمة لتنظيم مرور السيارات بأمان . ()
- 3- هذا الشكل يوضح مغناطيس كهربائي . ()
- 4- في الشكل التالي كلما قل عدد البطاريات زادت قوة اضاءة المصباح . ()
- 5- ضرب المغناطيس يزيد من قوته . ()

السؤال الثالث : ادرس الرسومات التالية ، ثم اجب عن ما هو مطلوب :-


1- صل الصورة بالحل المناسب لها:




2- صل بين الصور والكلمة المناسبة :



قف



استعد



سر

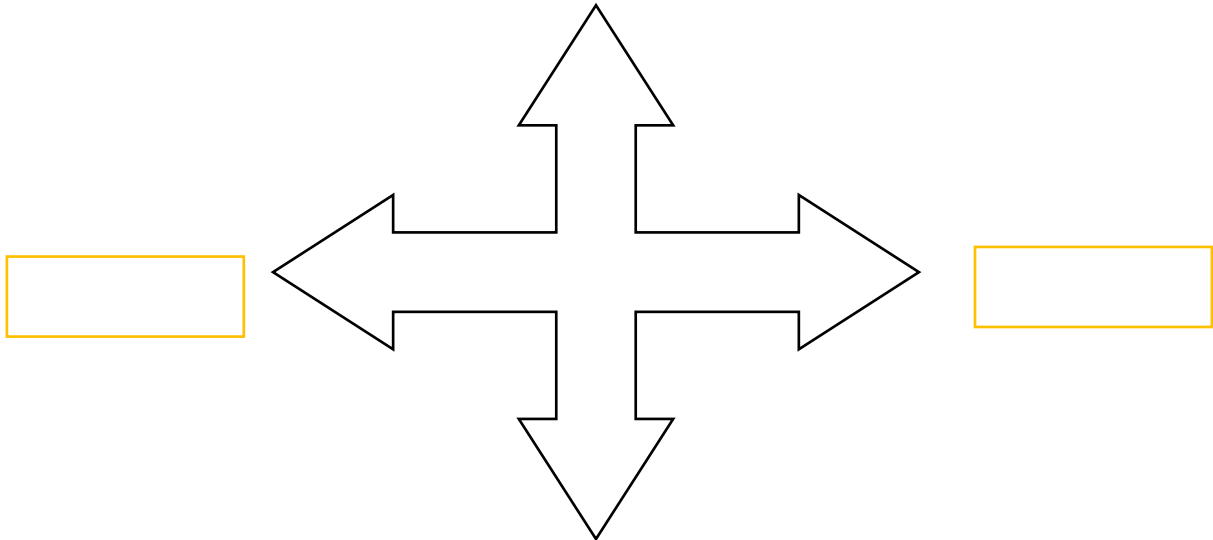
3- لون الإشارة التي تعبر عن مواقف ذوي الاحتياجات الخاصة :



السؤال الرابع : أكمل البيانات الناقصة على الرسم ثم لون ما هو مطلوب :

- جهة الشمال باللون الأحمر

- جهة الجنوب باللون الأخضر



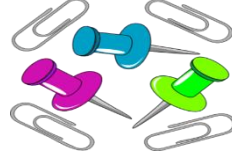
السؤال الخامس : صنف الصور التي أمامك حسب ما هو مطلوب منك:



(4)





(3)



(2)



(1)

أشياء لا يجذبها المغناطيس 	أشياء يجذبها المغناطيس 

انتهت الأسئلة