



نماذج أوراق العمل التقييمية  
الصف الخامس - الفترة الدراسية الثانية  
العام الدراسي 2024-2025



وزارة التربية  
التوجيه الفني العام للعلوم

نماذج أوراق العمل التقييمية  
للصف الخامس الابتدائي  
الفترة الدراسية الثانية

العام الدراسي  
2025-2024



5

الصف الخامس

SCAN ME



فريق إعداد التوجيهات الفنية





نماذج أوراق العمل التقييمية  
الصف الخامس – الفترة الدراسية الثانية  
العام الدراسي 2024-2025



وزارة التربية  
التوجيه الفني العام للعلوم

الاسم : .....

الفصل : .....

الدرجة النهائية : ..... / 5

## درس : تأثير حركة القمر على الأرض

**السؤال الأول : اختر الإجابة الصحيحة علمياً بوضع علامة ( ✓ ) في فيما يلي:**

- يحدث في اليوم الواحد :

جزر واحد

مد واحد

مدان و جزران

مد و جزر واحد

2

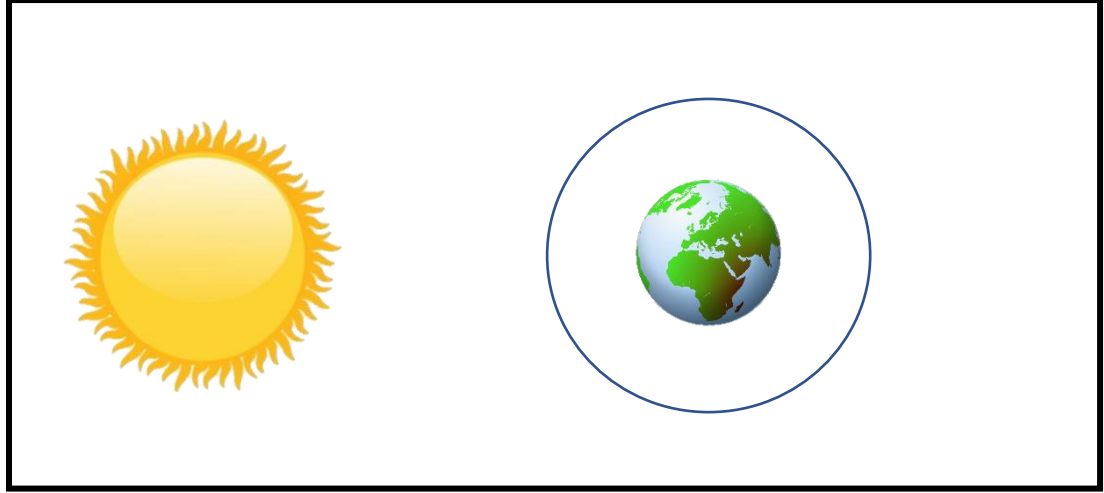
**السؤال الثاني : في الجدول التالي اختر العبارة من المجموعة ( ب ) وأكتب رقمها أمام**

**ما يناسبها من عبارات المجموعة ( أ ) :**

المجموعة ( ب )	المجموعة ( أ )	الرقم
1 - المد المنخفض	عندما تقع الأرض و القمر و الشمس على إستقامة واحدة تحدث ظاهرة	.....
2 - المد العالي		
1- منخفض	عندما يكون القمر تربيع أول يكون المد	.....
2-عالي		

2

**السؤال الثالث : أدرس الرسم الموضح ثم أكمله وفق ما هو مطلوب منك :**



أرسم القمر بموقعه الصحيح لحدوث ظاهرة المد المنخفض



نماذج أوراق العمل التقييمية  
الصف الخامس – الفترة الدراسية الثانية  
العام الدراسي 2024-2025



وزارة التربية  
التوجيه الفني العام للعلوم

الاسم : .....

الفصل : .....

الدرجة النهائية : /..... 5

## درس : خسوف القمر و كسوف الشمس

**السؤال الأول : اختر الإجابة الصحيحة علمياً بوضع علامة ( ✓ ) في المربع المقابل لها فيما يلي:**

- عندما يحجب ظل الأرض القمر كلياً يحدث:

كسوف كلي للشمس

كسوف جزئي للشمس

خسوف كلي للقمر

خسوف جزئي للقمر

2

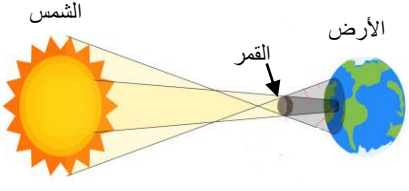
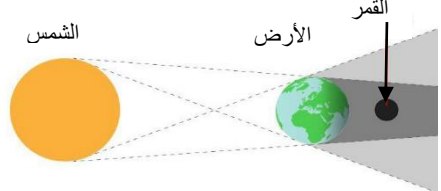
**السؤال الثاني : أكمل العبارات التالية بما تراه مناسباً علمياً :**

(1) يقع القمر في ظاهرة كسوف الشمس ..... الشمس و الأرض .

(2) تحدث ظاهرة خسوف القمر .....

2

**السؤال الثالث : قارن بين كل مما يلي :**

		وجه المقارنة
.....	.....	اسم الظاهرة الموضحة بالرسم



نماذج أوراق العمل التقييمية  
الصف الخامس – الفترة الدراسية الثانية  
العام الدراسي 2024-2025



وزارة التربية  
التوجيه الفني العام للعلوم

الاسم : .....

الفصل : .....

الدرجة النهائية : ..... / 5

درس : كيف يتدرب رائد الفضاء استعداداً للسفر إلى الفضاء ؟  
(1)

السؤال الأول: اختر الإجابة الصحيحة علمياً بوضع علامة ( ✓ ) في المربع المقابل لها فيما يلي:

- ضعف القدرة على التوازن من تأثير الظروف الفضائية على الجهاز

التنفسي

العصبي

الدوري

الهضمي

2

السؤال الثاني: أكتب بين القوسين كلمة ( صحيحة ) للعبارة الصحيحة وكلمة ( خاطئة ) للعبارة غير الصحيحة في كل مما يأتي :

(1) أداء الأمور اليومية أمر سهل على رائد الفضاء. ( ..... )

(2) يتدرب رائد الفضاء على طريقة تنظيف الجسم خلال السفر. ( ..... )

2



نماذج أوراق العمل التقييمية  
الصف الخامس – الفترة الدراسية الثانية  
العام الدراسي 2024-2025



**السؤال الثالث : علل لما يأتي تعليلاً علمياً سليماً :**

- صعوبة حياة رائد الفضاء أثناء رحلة السفر.

.....

<b>1</b>



نماذج أوراق العمل التقييمية  
الصف الخامس – الفترة الدراسية الثانية  
العام الدراسي 2024-2025



وزارة التربية  
التوجيه الفني العام للعلوم

الاسم : .....

الفصل : .....

الدرجة النهائية : /..... 5

درس : الحياة في الفضاء

**السؤال الأول : اختر الإجابة الصحيحة علمياً بوضع علامة ( ✓ ) في المربع المقابل لها فيما يلي:**

- جميع ما يلي يحدث بسبب انعدام الجاذبية الأرضية في الفضاء ما عدا :

سهولة النوم و الراحة .

صعوبة النوم .

تطير قطرات الماء .

سهولة رفع الأثقال

2

**السؤال الثاني: أكتب بين القوسين كلمة ( صحيحة ) للعبارة الصحيحة وكلمة ( خاطئة ) للعبارة غير الصحيحة في كل مما يأتي :**

(1) يحتاج رائد الفضاء إلى المحافظة على لياقته البدنية . ( ..... )

(2) يتناول رواد الفضاء الأغذية الطازجة. ( ..... )

2





نماذج أوراق العمل التقييمية  
الصف الخامس – الفترة الدراسية الثانية  
العام الدراسي 2024-2025



**السؤال الثالث : علل لما يلي تعليلاً علمياً سليماً :**

- يختار رواد الفضاء ملابسهم لرحلتهم إلى الفضاء بعناية

.....

<b>1</b>


الاسم : .....

الفصل : .....

الدرجة النهائية : ..... / 5

درس : ما التلسكوب ؟

**السؤال الأول : اخترا الإجابة الصحيحة علمياً بوضع علامة ( ✓ ) في المربع المقابل لها فيما يلي:**



- جزء في التلسكوب يساعدنا على رؤية الأشياء أقرب يسمى :

عدسة مقعرة

اطار مساند

أنبوب طويل

العدسة المحدبة

2

**السؤال الثاني : أكتب بين القوسين كلمة ( صحيحة ) للعبارة الصحيحة وكلمة ( خطأ ) للعبارة غير الصحيحة في كل مما يأتي:**

(1) التلسكوب يساعدنا على دراسة الكواكب والنجوم والاجرام السماوية . (.....)

(2) التلسكوب الأرضي يستخدم لرؤية الاجرام السماوية . (.....)

2



نماذج أوراق العمل التقييمية  
الصف الخامس – الفترة الدراسية الثانية  
العام الدراسي 2024-2025



وزارة التربية  
التوجيه الفني العام للعلوم

**السؤال الثالث : أكتب بين القوسين كلمة ( صحيحة ) للعبارة الصحيحة وكلمة ( خطأ ) للعبارة غير الصحيحة في كل مما يأتي مع تصحيح الخطأ :**

- يعمل التلسكوب الفضائي على تفريق أكبر كمية من الأشعة من الجرم

السماوي البعيد (.....)

التصحيح :- .....



نماذج أوراق العمل التقييمية  
الصف الخامس – الفترة الدراسية الثانية  
العام الدراسي 2024-2025



وزارة التربية  
التوجيه الفني العام للعلوم

الاسم : .....

الفصل : .....

الدرجة النهائية : ..... / 5

درس : ما الأقمار الصناعية ؟

**السؤال الأول : اختر الإجابة الصحيحة علمياً بوضع علامة ( ✓ ) في المربع المقابل لها فيما يلي:**

- أحد الأجهزة التالية يحتاجها القمر الصناعي لتمده بالطاقة اللازمة لتشغيله وهي:

خلايا الطاقة الشمسية

كاميرات المراقبة

الحاسب الآلي

جهاز ارسال هوائي

2

**السؤال الثاني : أكتب بين القوسين كلمة ( صحيحة ) للعبارة الصحيحة وكلمة ( خطأ ) للعبارة غير الصحيحة في كل مما يأتي:**

(1) يتكون القمر الصناعي من جزئين هما الحافلة والحمولة. (.....)

(2) يدور القمر الصناعي حول نفسه في الفضاء الخارجي. (.....)

2



نماذج أوراق العمل التقييمية  
الصف الخامس – الفترة الدراسية الثانية  
العام الدراسي 2024-2025



وزارة التربية  
التوجيه الفني العام للعلوم

**السؤال الثالث : قابل بين كل مما يلي :**

القمر الصناعي	القمر	
.....		التشابه



نماذج أوراق العمل التقييمية  
الصف الخامس – الفترة الدراسية الثانية  
العام الدراسي 2024-2025



وزارة التربية  
التوجيه الفني العام للعلوم

الاسم : .....

الفصل : .....

الدرجة النهائية : ..... / 5

درس : كيف يعمل القمر الصناعي ؟

**السؤال الأول : اختر الإجابة الصحيحة علمياً بوضع علامة ( ✓ ) في المربع المقابل لها فيما يلي:**

- بدأت ثورة الاتصالات عبر الأقمار بعد إطلاق أول قمر صناعي في الفضاء عام

1955

1956

1957

1958

2

**السؤال الثاني : في الجدول التالي اختر العبارة أو الشكل من المجموعة (ب) واكتب رقمها أمام ما يناسبها من عبارات المجموعة (أ)**

المجموعة ( ب )	المجموعة ( أ )	الرقم
1 - كل قمر له مدار خاص به 2 - كل قمر له مهمة خاصة به	لا تصطدم الأقمار الصناعية مع بعضها البعض رغم عددها الكبير لأن	.....
1 - افقي 2 - رأسي	تطلق الأقمار الصناعية من الأرض إلى الفضاء بشكل	.....

2



نماذج أوراق العمل التقييمية  
الصف الخامس – الفترة الدراسية الثانية  
العام الدراسي 2024-2025



**السؤال الثالث : علل لما يأتي تعليلاً علمياً سليماً ( أذكر السبب )**

- يدور القمر الصناعي حول الأرض بسرعة متوازنة مع سرعة الأرض.

.....

<b>1</b>



الاسم : .....

الفصل : .....

الدرجة النهائية : ..... / 5

## درس : أهمية الأقمار الصناعية

**السؤال الأول : اختر الإجابة الصحيحة علمياً بوضع علامة ( ✓ ) في المربع المقابل لها فيما يلي:**

- جميع ما يلي من مهام الأقمار الصناعية ما عدا :

إرسال بيانات عن السحب

نقل المباريات الدولية

إلتقاط إشارات الإستغاثة

تنظيم هبوط الطائرات بالمطار

2

**السؤال الثاني : اختر العبارة من مجموعة (ب) واكتب رقمها مع ما يناسبها من عبارات المجموعة (أ) :**

المجموعة (ب) ( نوع المهمة )		المجموعة (أ) ( المهمة )	
الفلك و البحث العلمي	1	مساعدة السفن و الطائرات على التنقل	.....
مراقبة الأرض	2	القيام بالمهام العلمية و تتبع المتغيرات الكونية	.....
الملاحة	3		

2





نماذج أوراق العمل التقييمية  
الصف الخامس – الفترة الدراسية الثانية  
العام الدراسي 2024-2025



**السؤال الثالث : عدد مايلي :**

- مهام / فوائد الأقمار الصناعية :

..... ( 1

..... ( 2



نماذج أوراق العمل التقييمية  
الصف الخامس – الفترة الدراسية الثانية  
العام الدراسي 2024-2025



وزارة التربية  
التوجيه الفني العام للعلوم

الاسم : .....

الفصل : .....

الدرجة النهائية : ..... / 5

درس : استكشاف الفضاء

**السؤال الأول : اختر الإجابة الصحيحة علمياً بوضع علامة ( ✓ ) في فيما يلي:**

- المحطة التي يتم بها إجراء التجارب العلمية والطبية ومعرفة تأثير انعدام الجاذبية على رواد الفضاء هي المحطة الفضائية:

المحطة الفضائية الدولية

سكاي لاب

ساليوت

مير

2

**السؤال الثاني : أكتب بين القوسين كلمة ( صحيحة ) للعبارة الصحيحة وكلمة ( خطأ ) للعبارة غير الصحيحة في كل مما يأتي:**

(1) التكنولوجيا والتطور العلمي يساعدنا على اكتشاف الفضاء . (.....)

(2) يوجد محطتان فضائيتان فقط في العالم (.....)

2



نماذج أوراق العمل التقييمية  
الصف الخامس – الفترة الدراسية الثانية  
العام الدراسي 2024-2025



**السؤال الثالث : عدد ما يلي :**

اثنان من أسباب أهمية استكشاف الفضاء :

..... -1

..... -2

1