



نموذج الإجابة لأوراق العمل التقييمية

الصف الثالث - الفترة الدراسية الثانية

العام الدراسي 2024-2025



وزارة التربية  
التوجيه الفني العام للعلوم

# نموذج إجابة أوراق العمل التقييمية للصف الثالث الابتدائي

## الفترة الدراسية الثانية

### العام الدراسي

### 2025-2024



# 3

الصف الثالث

SCAN ME



فريق إعداد التوجيهات الفنية





الاسم : .....

الفصل : .....

الدرجة النهائية : ..... / 5

درس : ما هي خصائص الصخور و التربة في بلادنا ؟

السؤال الأول : اختر الإجابة الصحيحة علمياً بوضع علامة ( ✓ ) في المربع المقابل لها فيما يلي:

- التربة السائدة في دولة الكويت هي :

التربة الطينية

التربة الزراعية

التربة الرملية

التربة الدبالية

2

السؤال الثاني : ضع علامة ( ✓ ) أمام العبارة الصحيحة علمياً وعلامة ( x ) أمام العبارة غير الصحيحة فيما يلي:


1 ( ) التربة الطينية حبيباتها كبيرة و مفككة ولا تحتفظ بالماء . ( x )

2 ( ) الصخور في دولة الكويت تختلف بخصائصها . ( ✓ )

2

**السؤال الثالث : ادرس الرسم التالي و طبق ما هو مطلوب :**

- أشر بالرقم (1) للقمع الذي يحتوي على التربة الطينية .
- أشر بالرقم ( 2 ) لكأس الماء الذي يوضح كمية الماء النافذة من التربة الرملية .



1



الاسم : .....

الفصل : .....

الدرجة النهائية : ..... / 5

## درس : النباتات في الصحراء

**السؤال الأول : اختر الإجابة الصحيحة علمياً بوضع علامة ( ✓ ) في المربع المقابل لها فيما يلي:**

- الزهرة الوطنية لدولة الكويت هي لنبات :

العرفج

النخيل

الكحيل

الاقحوان

2

**السؤال الثاني : في الجدول التالي اختر العبارة من المجموعة ( ب ) وأكتب رقمها أمام**

**ما يناسبها من عبارات المجموعة ( أ ) :**

المجموعة ( ب )	المجموعة ( أ )	الرقم
1- نباتات الصحراء	نباتات اوراقها كبيرة و سميكة .	2
2- نباتات الحديقة	نباتات اوراقها رفيعة و شوكية .	1
3- نباتات البحرية		

2



نموذج الإجابة لأوراق العمل التقييمية

الصف الثالث - الفترة الدراسية الثانية

العام الدراسي 2024-2025



وزارة التربية  
التوجيه الفني العام للعلوم

**السؤال الثالث : ماذا تتوقع أن يحدث عند :**

- زراعة نبات الحديقة في الصحراء

..... تذبل وتموت لأنها تحتاج الى كمية اكبر من الماء.....

..... تموت و لا تنمو جيداً في الصحراء.....



الاسم : .....

الفصل : .....

الدرجة النهائية : ..... / 5

## درس : تنوع نباتات الصحراء في بلادي

### السؤال الأول : اختر الإجابة الصحيحة علمياً بوضع علامة ( ✓ ) في فيما يلي:

1) نبات حولي ذو لون بنفسجي ينمو ويزدهر بعد هطول الامطار:

الاقحوان

النخيل

الكحيل

العرفج

2

### السؤال الثاني : أكمل العبارات التالية بما يناسبها من كلمات :

1) النخل شجرة تنمو طول السنة لأنها من النباتات..... ( الحولية – المعمره )

2) نبات لا ينمو إلا في شهر مارس وابريل هو ..... ( الأقحوان – العرفج )

2



نموذج الإجابة لأوراق العمل التقييمية

الصف الثالث - الفترة الدراسية الثانية

العام الدراسي 2024-2025



وزارة التربية  
التوجيه الفني العام للعلوم

**السؤال الثالث : علل لما يأتي تعليلا علميا صحيحا :**

- ينمو نبات الكحيل في موسم الامطار

.....**لأنه من النباتات الحولية**.....



الاسم : .....

الفصل : .....

الدرجة النهائية : ..... / 5

درس : كيف أحافظ على سلامتي في البحر ؟

**السؤال الأول : اختر الإجابة الصحيحة علمياً بوضع علامة ( ✓ ) في المربع المقابل لها فيما يلي:**

- جميع الأدوات التالية تحافظ على سلامتي بالرحلة البحرية ما عدا :

البوصلة  السنارة  سترة النجاة  حقيبة إسعافات

2

**السؤال الثاني : اكتب بين القوسين كلمة (صحيحة) للعبارة الصحيحة وكلمة (خطأ) للعبارة غير**

**الصحيحة في كل مما يأتي:**

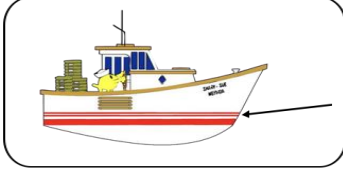
(1) يجب الابتعاد عن الصخور عند ركوب الدراجة المائية. (... صحيحة ...)

(2) الهاتف النقال غير ضروري في الرحلات البحرية . (... خطأ ...)

2



**السؤال الثالث : ماذا يحدث في الحالة التالية :**



- عندما يتخطى مستوى الماء خط الأمان في السفينة .

.....تتعرض السفينة لخطر الغرق / تغرق ، بسبب زيادة الحمولة .....



الاسم : .....

الفصل : .....

الدرجة النهائية : /..... 5

درس : كيف يمكن معالجة مياه البحر ؟

**السؤال الأول : اختر الإجابة الصحيحة علمياً بوضع علامة (✓) في المربع المقابل لها فيما يلي:**

- عملية تحول المادة من الحالة الغازية إلى الحالة السائلة تسمى بـ

تكثيف

تقطير

تسخين

تبخير

2

**السؤال الثاني : اكتب بين القوسين كلمة (صحيحة) للعبارة الصحيحة وكلمة (خطأ) للعبارة غير**

**الصحيحة في كل مما يأتي:**

(...صحيحة...)

(1) تتكون السحب في الطبقات العليا من الهواء .

(...صحيحة...)

(2) التقطير هو تبخير ماء مالح يليه تكثيف بخار الماء .

2

**السؤال الثالث : ماذا يحدث في الحالة التالية :**

- عند تقريب سطحاً بارداً من بخار الماء المتصاعد.



يتكثف بخار الماء و يتحول إلى قطرات ماء على السطح البارد



الاسم : .....

الفصل : .....

الدرجة النهائية : ..... / 5

درس : النفط ثروة بلادي

السؤال الأول : اختر الإجابة الصحيحة علمياً بوضع علامة ( ✓ ) في المربع المقابل لها فيما يلي:

- يتكون النفط في باطن الأرض و يكون لونه :

أبيض

أسود

أحمر

أخضر

2

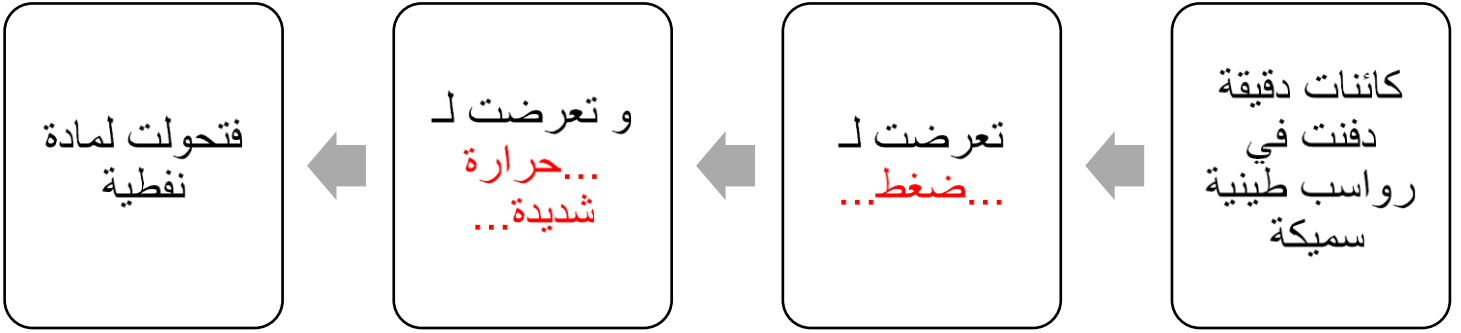
السؤال الثاني : أكمل العبارات التالية بما يناسبه من الكلمات :

1 - يكون قوام النفط .....**ثقيل**.....

2 - تشكل النفط من كائنات .....**دقيقة**.....نباتية و حيوانية

2

السؤال الثالث : أكمل المخطط الشكلي بما تراه مناسباً :





الاسم : .....

الفصل : .....

الدرجة النهائية : ..... / 5

درس : ما دور التكنولوجيا في البحث عن النفط و استخراجاه؟

**السؤال الأول : اختر الإجابة الصحيحة علميا بوضع علامة ( ✓ ) في المربع المقابل لها فيما يلي:**

- أحد المواد التالية من مشتقات النفط:

الورق

الفحم

الغاز

الخشب

2

**السؤال الثاني : ضع علامة ( ✓ ) أمام العبارة الصحيحة علميا وعلامة ( x ) أمام العبارة الغير صحيحة فيما يلي:**

(1) كان استخدام النفط قديما محصور في معالجة بعض الأمراض الجلدية. ( x )

(2) يعتبر وقود السيارات من مشتقات النفط. ( ✓ )

2

**السؤال الثالث : أكمل البيانات على الرسم بكتابة أسماء الأدوات الموضحة و التي تستخدم في البحث عن النفط :**



1



الاسم : .....

الفصل : .....

الدرجة النهائية : ..... / 5

درس : ما هي طرق التعامل مع المنتجات النفطية  
بصورة آمنة ؟

**السؤال الأول : اختر الإجابة الصحيحة علمياً بوضع علامة ( ✓ ) في المربع المقابل لها فيما يلي:**

- أحد المجموعات التالية تحتوي على منتجات غير نفطية :

( كأس فلين - مبيد حشري )

( كوب ورقي - طاولة خشب )

( كأس فلين - كأس بلاستيكي )

( كوب ورقي - أصباغ )

2

**السؤال الثاني : اكمل العبارات التالية بكلمة علمية مناسبة:**

(1) من المنتجات النفطية التي تستخدم كوقود للسيارات البنزين

(2) نحافظ على البيئة من خلال التقليل من النفايات وإعادة تدويرها

2





نموذج الإجابة لأوراق العمل التقييمية

الصف الثالث - الفترة الدراسية الثانية

العام الدراسي 2024-2025



وزارة التربية  
التوجيه الفني العام للعلوم

**السؤال الثالث : ماذا تتوقع أن يحدث عند :**

- كثرة استخدام المنتجات النفطية.

**تلوث البيئة وانتشار الأمراض .**

1



الاسم : .....

الفصل : .....

الدرجة النهائية : ..... / 5

درس : كيف تحد من تلوث الهواء الجوي ؟

**السؤال الأول : اختر الإجابة الصحيحة علمياً بوضع علامة ( ✓ ) في المربع المقابل لها فيما يلي:**

- جميع ما يلي يسبب تلوث الهواء الجوي ما عدا :

المبيدات الحشرية

عوادم السيارات

وسائل النقل الجماعية

دخان المصانع

2

**السؤال الثاني : أكتب بين القوسين كلمة ( صحيحة ) للعبارة الصحيحة وكلمة ( خطأ ) للعبارة غير الصحيحة في كل مما يأتي:**

( صحيحة )

1) دخان الحرائق من مسببات تلوث الهواء الجوي.


( خطأ )

2) استخدام الدراجة الهوائية يزيد من تلوث الهواء الجوي.

2

**السؤال الثالث : ماذا تتوقع أن يحدث في الحالة التالية :**

بالقرب من المناطق السكنية



- عند بناء المصانع

**تزداد نسبة تلوث الهواء الجوي في المنطقة السكنية ، مما يزيد من انتشار الأمراض**