



نماذج أوراق العمل التقييمية
الصف الثالث - الفترة الدراسية الثانية
العام الدراسي 2024-2025



وزارة التربية
التوجيه الفني العام للعلوم

نماذج أوراق العمل التقييمية للصف الثالث الابتدائي

الفترة الدراسية الثانية

العام الدراسي 2025-2024



3

الصف الثالث

SCAN ME



فريق إعداد التوجيهات الفنية





نماذج أوراق العمل التقييمية
الصف الثالث – الفترة الدراسية الثانية
العام الدراسي 2024-2025



وزارة التربية
التوجيه الفني العام للعلوم

الاسم :

الفصل :

الدرجة النهائية : / 5

درس : ما هي خصائص الصخور و التربة في بلادنا ؟

السؤال الأول : اختر الإجابة الصحيحة علمياً بوضع علامة (✓) في المربع المقابل لها فيما يلي:

- التربة السائدة في دولة الكويت هي :

التربة الطينية

التربة الزراعية

التربة الرملية

التربة الدبالية

2

السؤال الثاني : ضع علامة (✓) أمام العبارة الصحيحة علمياً وعلامة (x) أمام العبارة غير الصحيحة فيما يلي:

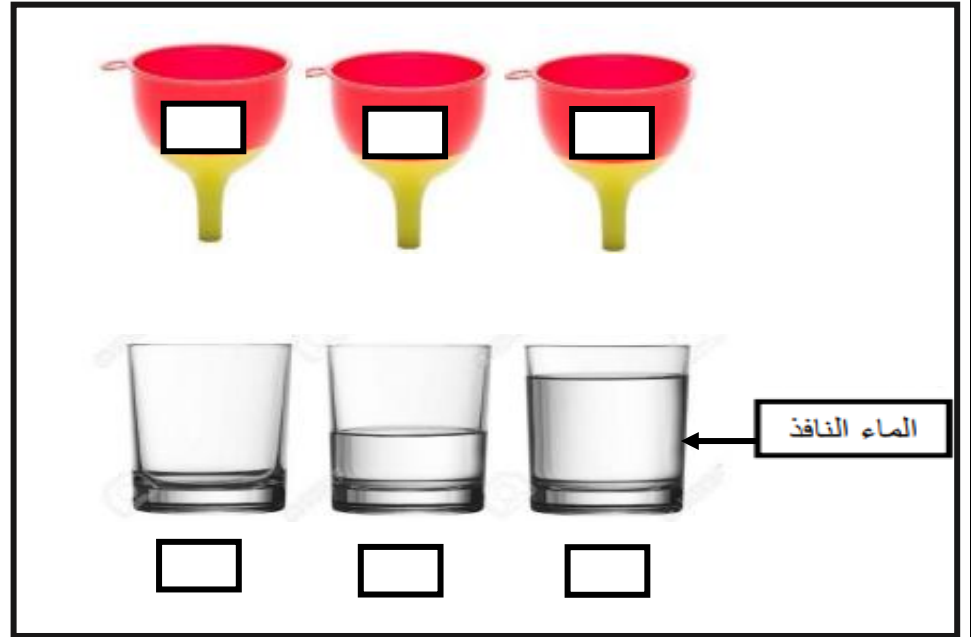
1 () التربة الطينية حبيباتها كبيرة و مفككة ولا تحتفظ بالماء .

2 () الصخور في دولة الكويت تختلف بخصائصها .

2

السؤال الثالث : ادرس الرسم التالي و طبق ما هو مطلوب :

- أشر بالرقم (1) للقمع الذي يحتوي على التربة الطينية .
- أشر بالرقم (2) لكأس الماء الذي يوضح كمية الماء النافذة من التربة الرملية .





نماذج أوراق العمل التقييمية
الصف الثالث - الفترة الدراسية الثانية
العام الدراسي 2024-2025



وزارة التربية
التوجيه الفني العام للعلوم

الاسم :

الفصل :

الدرجة النهائية : / 5

درس : النباتات في الصحراء

السؤال الأول : اختر الإجابة الصحيحة علمياً بوضع علامة (✓) في المربع المقابل لها فيما يلي:

- الزهرة الوطنية لدولة الكويت هي لنبات :

العرفج

النخيل

الكحيل

الاقحوان

2

السؤال الثاني : في الجدول التالي اختر العبارة من المجموعة (ب) وأكتب رقمها أمام

ما يناسبها من عبارات المجموعة (أ) :

الرقم	المجموعة (أ)	المجموعة (ب)
<input type="checkbox"/>	نباتات اوراقها كبيرة و سميكة .	1- نباتات الصحراء
<input type="checkbox"/>	نباتات اوراقها رفيعة و شوكية .	2- نباتات الحديقة
		3- نباتات البحرية

2



نماذج أوراق العمل التقييمية
الصف الثالث - الفترة الدراسية الثانية
العام الدراسي 2024-2025



وزارة التربية
التوجيه الفني العام للعلوم

السؤال الثالث : ماذا تتوقع أن يحدث عند :

- زراعة نبات الحديقة في الصحراء

.....

1



الاسم :

الفصل :

الدرجة النهائية : / 5

درس : تنوع نباتات الصحراء في بلادنا

السؤال الأول : اختر الإجابة الصحيحة علمياً بوضع علامة (✓) في فيما يلي:

- نبات حولي ذو لون بنفسجي ينمو ويزدهر بعد هطول الامطار:

الاقحوان

النخيل

الكحيل

العرفج

2

السؤال الثاني : أكمل العبارات التالية بما يناسبها من كلمات :

(1) النخل شجرة تنمو طول السنة لأنها من النباتات..... (الحولية - المعمره)

(2) نبات لا ينمو إلا في شهر مارس وابريل هو (الأبقوان - العرفج)

2



نماذج أوراق العمل التقييمية
الصف الثالث - الفترة الدراسية الثانية
العام الدراسي 2024-2025



السؤال الثالث : علل لما يأتي تعليلا علميا صحيحا :

- ينمو نبات الكحيل في موسم الامطار

1



الاسم :

الفصل :

الدرجة النهائية : / 5

درس : كيف أحافظ على سلامتي في البحر ؟

السؤال الأول : اختر الإجابة الصحيحة علمياً بوضع علامة (✓) في المربع المقابل لها فيما يلي:

- جميع الأدوات التالية تحافظ على سلامتي بالرحلة البحرية ما عدا :

حقيبة إسعافات

سترة النجاة

السنارة

البوصلة

2

السؤال الثاني : اكتب بين القوسين كلمة (صحيحة) للعبارة الصحيحة وكلمة (خطأ) للعبارة غير

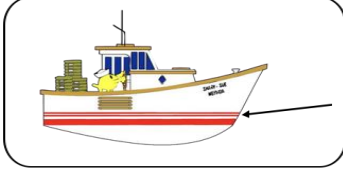
الصحيحة في كل مما يأتي:

(1) يجب الابتعاد عن الصخور عند ركوب الدراجة المائية. (.....)

(2) الهاتف النقل غير ضروري في الرحلات البحرية . (.....)

2

السؤال الثالث : ماذا يحدث في الحالة التالية :



عندما يتخطى مستوى الماء خط الأمان في السفينة .

.....

1



الاسم :

الفصل :

الدرجة النهائية : / 5

درس : كيف يمكن معالجة مياه البحر ؟

السؤال الأول : اختر الإجابة الصحيحة علمياً بوضع علامة (✓) في المربع المقابل لها فيما يلي:

- عملية تحول المادة من الحالة الغازية إلى الحالة السائلة تسمى بـ

تكثيف

تقطير

تسخين

تبخير

2

السؤال الثاني : اكتب بين القوسين كلمة (صحيحة) للعبارة الصحيحة وكلمة (خطأ) للعبارة غير

الصحيحة في كل مما يأتي:

(1) تتكون السحب في الطبقات العليا من الهواء . (.....)

(2) التقطير هو تبخير ماء مالح يليه تكثيف بخار الماء . (.....)

2



السؤال الثالث : ماذا يحدث في الحالة التالية :

- عند تقريب سطحاً بارداً من بخار الماء المتصاعد.

1



الاسم :

الفصل :

الدرجة النهائية : / 5

درس : النفط ثروة بلادي

السؤال الأول : اختر الإجابة الصحيحة علمياً بوضع علامة (✓) في المربع المقابل لها فيما يلي:

- يتكون النفط في باطن الأرض و يكون لونه :

أبيض

أسود

أحمر

أخضر

2

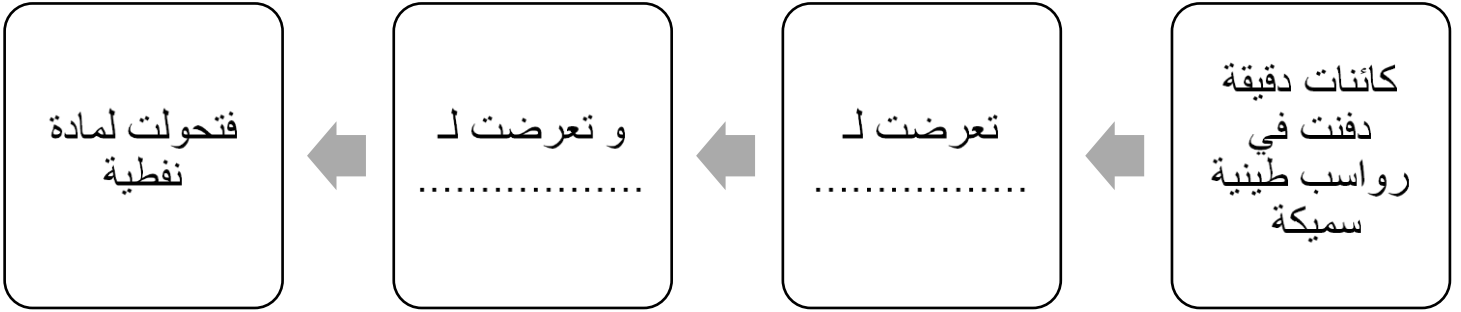
السؤال الثاني : أكمل العبارات التالية بما يناسبه من الكلمات :

1 - يكون قوام النفط

2 - تشكل النفط من كائناتنباتية و حيوانية

2

السؤال الثالث : أكمل المخطط الشكلي بما تراه مناسباً :





الاسم :

الفصل :

الدرجة النهائية : / 5

درس : ما دور التكنولوجيا في البحث عن النفط و استخراجة؟

السؤال الأول : اختر الإجابة الصحيحة علميا بوضع علامة (✓) في المربع المقابل لها فيما يلي:

- أحد المواد التالية من مشتقات النفط:

الورق

الفحم

الغاز

الخشب

2


السؤال الثاني : ضع علامة (✓) أمام العبارة الصحيحة علميا وعلامة (x) أمام العبارة الغير صحيحة فيما يلي:

(1) كان استخدام النفط قديما محصور في معالجة بعض الأمراض الجلدية. ()

(2) يعتبر وقود السيارات من مشتقات النفط. ()

2

**السؤال الثالث : أكمل البيانات على الرسم بكتابة أسماء الأدوات الموضحة و التي تستخدم في
البحث عن النفط :**



1



الاسم :

الفصل :

الدرجة النهائية : / 5

درس : ما هي طرق التعامل مع المنتجات النفطية
بصورة آمنة ؟

السؤال الأول : اختر الإجابة الصحيحة علمياً بوضع علامة (✓) في المربع المقابل لها فيما يلي:

- أحد المجموعات التالية تحتوي على منتجات غير نفطية :

(كأس فلين - مبيد حشري)

(كوب ورقي - طاولة خشب)

(كأس فلين - كأس بلاستيكي)

(كوب ورقي - أصباغ)

2

السؤال الثاني : اكمل العبارات التالية بكلمة علمية مناسبة:

(1) من المنتجات النفطية التي تستخدم كوقود للسيارات

(2) نحافظ على البيئة من خلال التقليل من النفايات و

2



نماذج أوراق العمل التقييمية
الصف الثالث - الفترة الدراسية الثانية
العام الدراسي 2024-2025



السؤال الثالث : ماذا تتوقع أن يحدث عند :

كثرة استخدام المنتجات النفطية.

.....

1



الاسم :

الفصل :

الدرجة النهائية : / 5

درس : كيف تحد من تلوث الهواء الجوي ؟

السؤال الأول : اختر الإجابة الصحيحة علمياً بوضع علامة (✓) في المربع المقابل لها فيما يلي:

- جميع ما يلي يسبب تلوث الهواء الجوي ما عدا :

المبيدات الحشرية

عوادم السيارات

وسائل النقل الجماعية

دخان المصانع

2

السؤال الثاني : أكتب بين القوسين كلمة (صحيحة) للعبارة الصحيحة وكلمة (خطأ) للعبارة غير الصحيحة في كل مما يأتي:

(1) دخان الحرائق من مسببات تلوث الهواء الجوي. ()

(2) استخدام الدراجة الهوائية يزيد من تلوث الهواء الجوي. ()

2




نماذج أوراق العمل التقييمية
الصف الثالث - الفترة الدراسية الثانية
العام الدراسي 2024-2025



السؤال الثالث : ماذا تتوقع أن يحدث في الحالة التالية :

بالقرب من المناطق السكنية



- عند بناء المصانع

.....

1