



نموذج الإجابة لأوراق العمل التقييمية

الصف الثاني - الفترة الدراسية الثانية

العام الدراسي 2024-2025




وزارة التربية  
التوجيه الفني للعام للعلوم

# نموذج إجابة أوراق العمل التقييمية للصف الثاني الابتدائي

## الفترة الدراسية الثانية

### العام الدراسي 2025-2024



# 2

الصف الثاني

SCAN ME



فريق إعداد التوجيهات الفنية





الاسم : .....

الفصل : .....

الدرجة النهائية : ..... / 5

درس : كيف يحدث النهار و الليل ؟

السؤال الأول : اختر الإجابة الصحيحة علمياً بوضع علامة ( ✓ ) في المربع المقابل لها فيما يلي

- يحدث الليل و النهار نتيجة دوران الأرض حول :

نفسها أمام الشمس

نفسها أمام القمر

الشمس

القمر

2

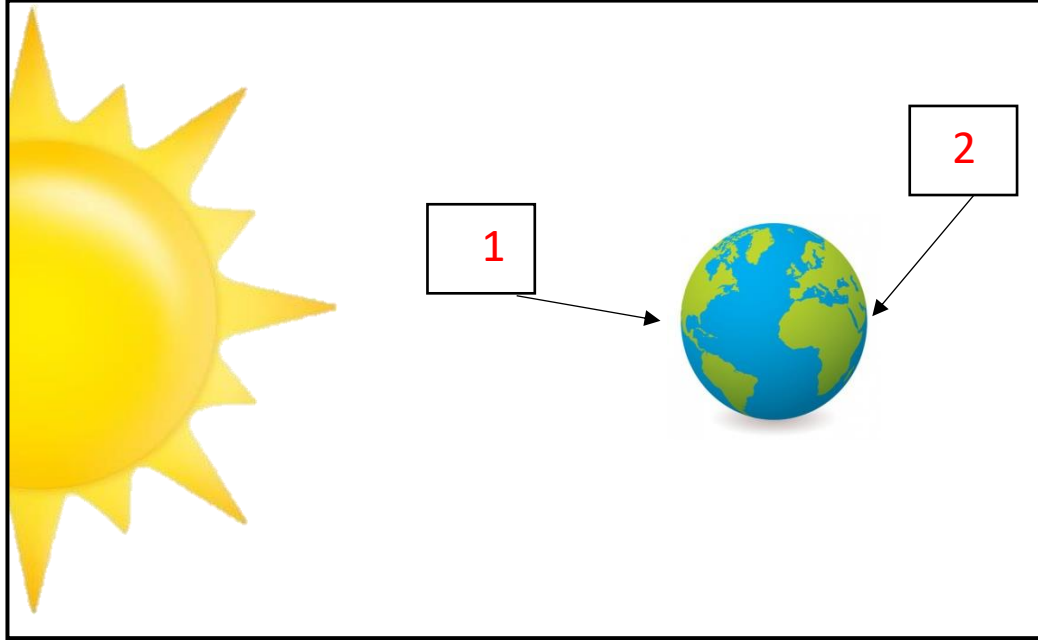
السؤال الثاني : ضع علامه ( ✓ ) امام العبارة الصحيحة و علامة ( x ) امام العبارة غير الصحيحة فيما يلي :

(1) تدور الأرض حول نفسها مرة كل سنة . ( x )

(2) الجزء المقابل للشمس يكون الوقت فيه نهار . ( ✓ )

2

**السؤال الثالث: أشر إلى الأجزاء المطلوبة منك بالرسم :**



أشر بالرقم ( 1 ) لجزء الكرة الأرضية الذي يكون نهاراً

و أشر بالرقم ( 2 ) لجزء الكرة الأرضية الذي يكون ليلاً

1

الاسم : .....

الفصل : .....

الدرجة النهائية : ..... / 5

درس : أي الأجسام يسمح بمرور الضوء ؟

**السؤال الأول : اختر الإجابة الصحيحة علمياً بوضع علامة ( ✓ ) في المربع المقابل لها فيما يلي:**

- أحد الأجسام التالية تسمح بمرور الضوء من خلالها :



2

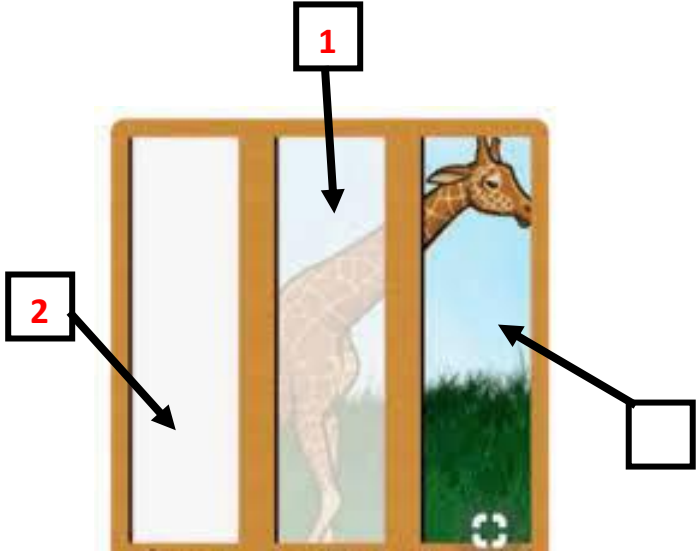
**السؤال الثاني : ضع علامة ( ✓ ) أمام العبارة الصحيحة وعلامة ( ✗ ) أمام العبارة غير الصحيحة في كل مما يأتي:**

(1) جميع الأجسام من حولنا معتمة. (... ✓ ...)

(2) الماء من الأجسام الشفافة التي تسمح بمرور الضوء. (... ✗ ...)

2

**السؤال الثالث : أشر إلى الأجزاء المطلوبة بالرسم :**



- أدرس الرسم الموضح أمامك ثم :

- أشر بالرقم (1) للجسم النصف شفاف .

- أشر بالرقم (2) للجسم المعتَم.

1

الاسم : .....

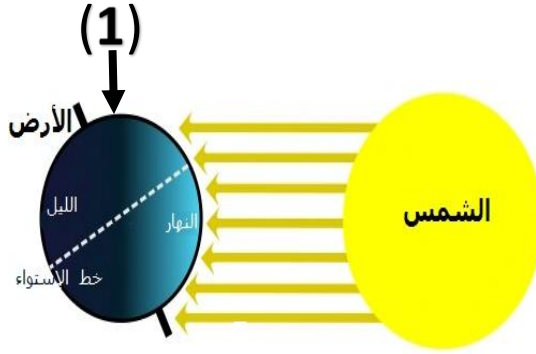
الفصل : .....

الدرجة النهائية : ..... / 5

درس : كيف تحدث الفصول الأربعة ؟

السؤال الأول : اختر الإجابة الصحيحة علمياً بوضع علامة ( ✓ ) في المربع المقابل لها فيما يلي:

- جزء الكرة الأرضية المشار له بالرقم ( 1 ) يكون الفصل فيه



صيف

شتاء

ربيع

خريف

2

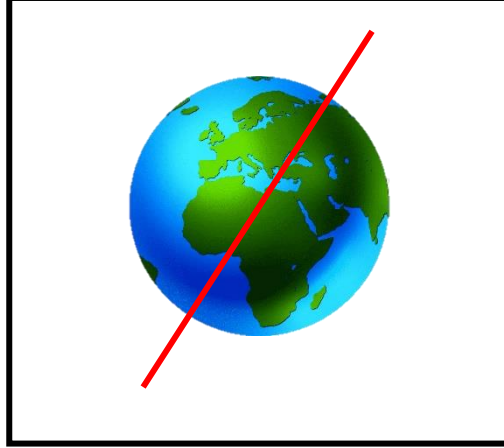
السؤال الثاني : أكمل العبارات التالية بما تراه مناسباً علمياً :

(1) تحدث ظاهرة الفصول الأربعة نتيجة دوران الأرض حول ..... الشمس.....

(2) نلبس الملابس الثقيلة في فصل ..... الصيف.....

2

**السؤال الثالث : وضح بالرسم محور الكرة الأرضية بصورة صحيحة :**



1

الاسم : .....

الفصل : .....

الدرجة النهائية : / 5

درس : كيف تحمي نفسك من أشعة الشمس؟

**السؤال الأول : اختر الإجابة الصحيحة علمياً بوضع علامة ( ✓ ) في المربع المقابل لها فيما يلي:**



- اختر العنصر المختلف عن المجموعة الموضحة بالشكل

2

1

4

3

2

**السؤال الثاني : أكمل العبارات التالية بما يناسبها من الكلمات**

1 - يصاب الأطفال بحرق بالجلد عند التعرض لأشعة الشمس ..... ( المباشرة – غير المباشرة )

2 – القبعة تحمي الإنسان من ..... أشعة الشمس . ( فائدة – ضرر )

2



السؤال الثالث : لاحظ الصورة التالية , ثم أكمل الرسم بإضافة شيئين لحماية الطفل من أشعة الشمس القوية :



يرسم شمسية وقبعة ويمكن احتساب الإجابة صحيحة أي شي آخر يساعد في الحماية من الشمس



الاسم : .....

الفصل : .....

الدرجة النهائية : ..... / 5

درس : ما الموارد التي يمكن استخراجها من الأرض ؟

**السؤال الأول : اختر الإجابة الصحيحة علمياً بوضع علامة ( ✓ ) في المربع المقابل لها فيما يلي :**

- مورد طبيعي يستخدم كوقود للطائرات هو

الخشب

الفحم

النفط

الماء

2

**السؤال الثاني : اختر من المجموعة (ب) ما يناسب المجموعة (أ) :**

الرقم	المجموعة (أ)	المجموعة (ب)
( 2 )	مورد طبيعي يستخدم لري المزروعات	(1) البنزين (2) الماء
( 1 )	مورد يستخدم في تصنيع الأثاث	(1) الخشب (2) الفحم

2

**السؤال الثالث : أكمل البيانات على الرسم الموضح أدناه :**

الرسم يوضح موارد طبيعية مختلفة





الاسم : .....

الفصل : .....

الدرجة النهائية : ..... / 5

درس : ما الذي يمكن إعادة تدويره ؟

**السؤال الأول : اختر الإجابة الصحيحة علمياً بوضع علامة ( ✓ ) في المربع المقابل لها فيما يلي:**

- يمكن تحويل جميع المواد التالية إلى مواد جديدة ما عدا :

بقايا الطعام

الأوراق المستخدمة

قنينة المياه

العلب الكرتونية

2

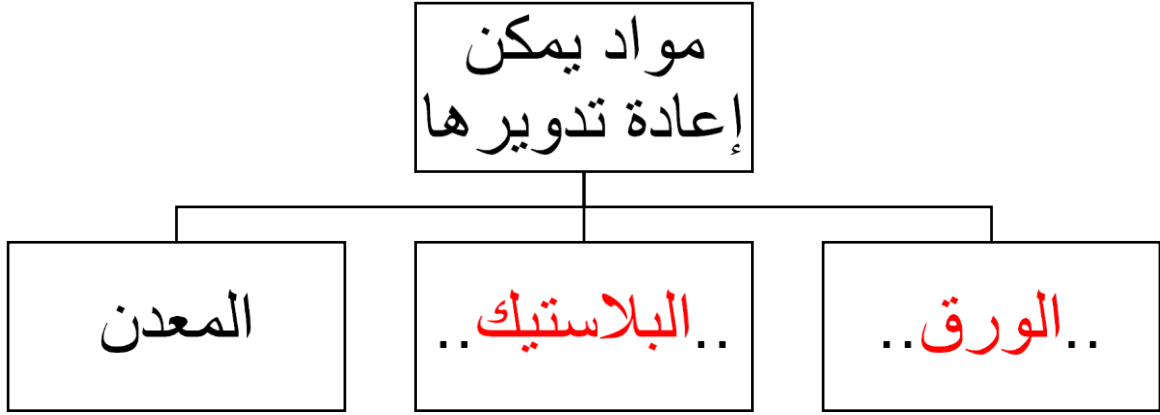
**السؤال الثاني : أكمل العبارات التالية بما يناسبها علمياً :**

(1) تحويل المواد التي نستخدمها لمواد جديدة يطلق عليه ..... **إعادة تدوير**....

(2) رمي النفايات بالأماكن المخصصة لها يضمن لك بيئة ..... **نظيفة**.....

2

السؤال الثالث: أكمل المنظم الشكلي الموضح أدناه :



الاسم : .....

الفصل : .....

الدرجة النهائية : ..... / 5

درس : كيف نستخدم المغناطيس بأمان ؟

**السؤال الأول : اختر الإجابة الصحيحة علمياً بوضع علامة ( ✓ ) في فيما يلي:**

- من الإستخدامات غير الآمنة للمغناطيس :



2

**السؤال الثاني : أكمل العبارات التالية بما يناسبها الكلمات بصورة صحيحة :**

(1) ينصح باستخدام المغناطيس بطرق ..... ( آمنة – ضارة )

(2) الشكل (2) يمثل ..... ( مغناطيس – بوصلة )



الشكل (2)

2

**السؤال الثالث : أكمل الجزء الناقص في البوصلة و حدد ما هو :**



—

الاسم : .....

الفصل : .....

الدرجة النهائية : /..... 5

درس : كيف نستخدم البطارية بأمان ؟

السؤال الأول : اختر الإجابة الصحيحة علمياً بوضع علامة ( ✓ ) في المربع المقابل لها فيما يلي:


- المصباح الكهربائي سيضيء بقوة عند استخدام البطارية



2

السؤال الثاني : ضعي بين القوسين علامة ( ✓ ) أمام العبارة الصحيحة وعلامة ( X ) أمام العبارة غير الصحيحة في كل مما يأتي :

(1) البطاريات المعرضة لأشعة الشمس القوية تحتفظ بقوتها . (.....X.....)

(2) علامة تدل على عدم لعب الأطفال بالبطاريات . (.....✓.....) 

2



**السؤال الثالث : أكمل الرسم لتوضح الطريقة المناسبة للمحافظة على البطارية و استخدامها بأمان :**



1

الاسم : .....

الفصل : .....

الدرجة النهائية : ..... / 5

درس : كيف يمكن نقل الأشياء ؟

**السؤال الأول : اختر الإجابة الصحيحة علمياً بوضع علامة ( ✓ ) في المربع المقابل لها فيما يلي :**

- آلة بسيطة تحتاجها لتسهيل حركة وسائل النقل .



2

**السؤال الثاني : ضع علامة ( ✓ ) أمام العبارة الصحيحة وعلامة ( x ) أمام العبارة غير الصحيحة :**

( 1 ) يساعدنا المستوى المائل على رفع العلم أعلى السارية . ( x )


( 2 ) العجلات مهمة لجميع أنواع الدراجات . ( ✓ )

2

**السؤال الثالث : صنف الصور التالية وفق ما هو مطلوب في الجدول:**



4



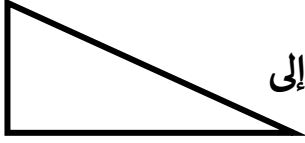

3



2



1

	أشياء تحتاج للنقل إلى		أشياء تحتاج للنقل إلى
	3 ، 1		2 ، 4

1